



PHIẾU HỌC TẬP
CUỐI TUẦN 13. Mã 3.13.0.2

Ngàytháng.....năm

Họ và tên: Lớp :.....

1 Tính

$24 : 8 + 39 = \dots\dots\dots$ $72 : 8 - 9 = \dots\dots\dots$ $18 \times 4 : 8 = \dots\dots\dots$

2 Viết theo mẫu

| Số lớn | Số bé | Phép chia | Số lớn gấp mấy lần số bé ? | Số bé bằng một phần mấy số lớn ? |
|--------|-------|--------------|----------------------------|----------------------------------|
| 12 | 4 | $12 : 4 = 3$ | 3 | $\frac{1}{3}$ |
| 36 | 6 | | | — |
| 63 | 3 | | | — |
| 24 | 2 | | | — |

3 Trên sân có 16 con gà và 2 con vịt. Hỏi số con vịt bằng một phần mấy số con gà?

Bài giải

.....



Vậy số vịt bằng — số con gà.

Đáp số: —.

4 Nói

Số lớn gấp 5 lần số bé

Số bé bằng $\frac{1}{8}$ số lớn

Thương của số lớn và số bé là 7

Số bé bằng $\frac{1}{5}$ số lớn

Số lớn gấp số bé 8 lần

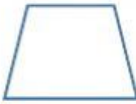
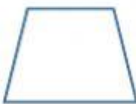
Số bé bằng $\frac{1}{6}$ số lớn

Thương của số lớn và số bé là 6

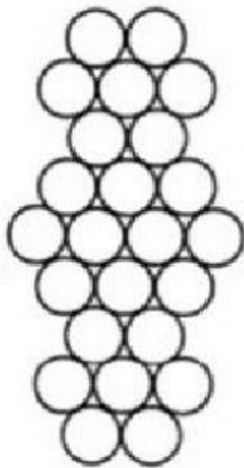
Số lớn gấp 7 lần số bé

5 Số?




$\frac{1}{3}$ của 63 là:  ; $\frac{1}{7}$ của 21 cộng với $\frac{1}{8}$ của 64 là: 

6 Số?



$\frac{1}{8}$ Số hình tròn là:.....



$\frac{1}{8}$ Số ô vuông là:.....

7 Số cây cam trong vườn là số liền sau của số lớn nhất có hai chữ số. Số cây bằng $\frac{1}{5}$ số cây cam. Hỏi trong vườn có tất cả bao nhiêu cây?

Trong vườn có tất cả.....cây.