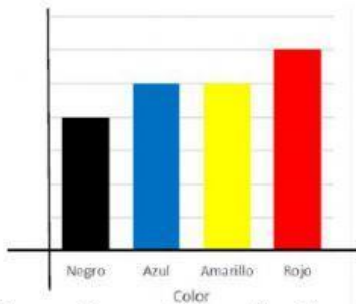


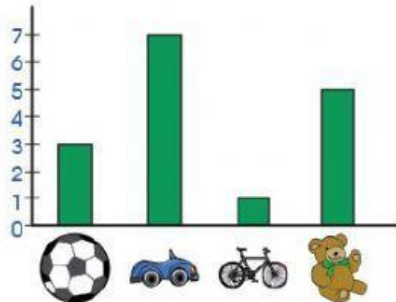
GRAFICO DE BARRAS

1.-Cuál es el color preferido según la imagen? Encierra la respuesta



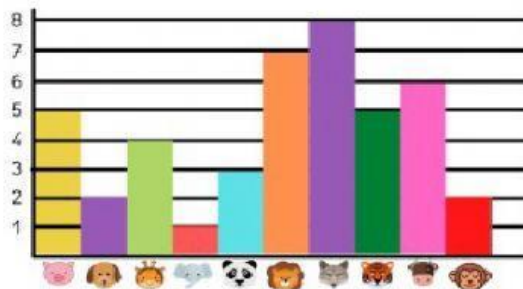
- a) Negro
- b) Rojo
- c) Azul
- d) amarillo

2.-¿Cuál es el juguete preferido de Julio?



- a) Pelota
- b) Carro
- c) Bicicleta
- d) oso

3.- observa el grafico de el zoológico y responde: ¿qué animal hay más?

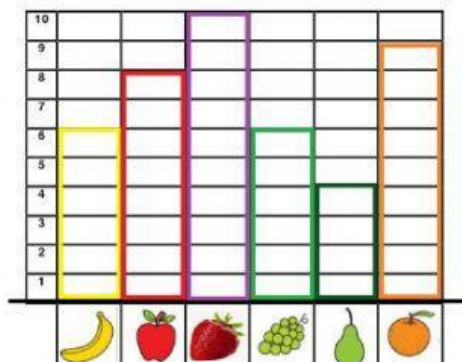


- a) Cerdo
- b) León
- c) Zorro
- d) Mono
- e) elefante

1. ¿Cuántos hay?

	<input type="text"/>		<input type="text"/>		<input type="text"/>		<input type="text"/>		<input type="text"/>
	<input type="text"/>		<input type="text"/>		<input type="text"/>		<input type="text"/>		<input type="text"/>

4.-observa el grafico y responde cuantas frutas hay en total?



- a) 40
- b) 41
- c) 42
- d) 43
- e) 44