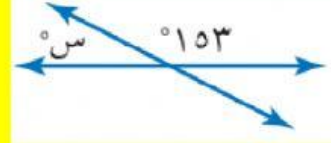


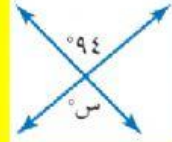
أوجد قيمة س في كل شكل مما يأتي:



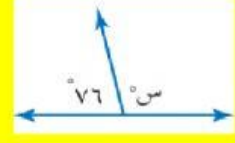
FREE
MATH
PARTNER
GAMES
FOR
HOME
AND
SCHOOL



1



2

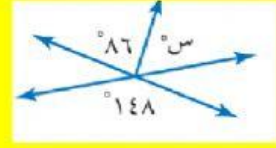


3

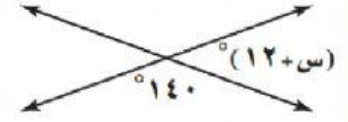
أوجد قيمة س في كل شكل مما يأتي:



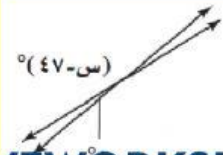
FREE
MATH
PARTNER
GAMES
FOR
HOME
AND
SCHOOL



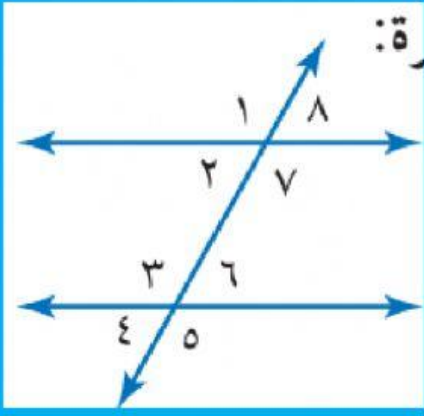
4



5



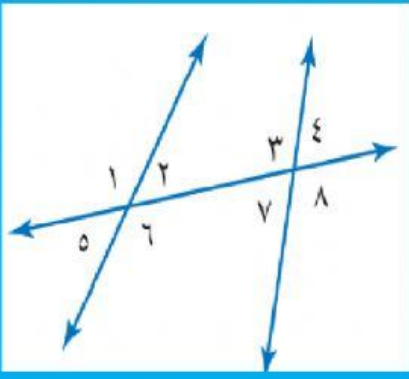
6



صنف أزواج الزوايا الآتية إلى متبادلة
داخلياً، أو متبادلة خارجياً، أو متناظرة:



- 1 $\angle 8$ و $\angle 4$
- 2 $\angle 7$ و $\angle 5$
- 3 $\angle 7$ و $\angle 3$
- 4 $\angle 6$ و $\angle 3$



صنف أزواج الزوايا الآتية إلى متبادلة
داخلياً، أو متبادلة خارجياً، أو متناظرة:



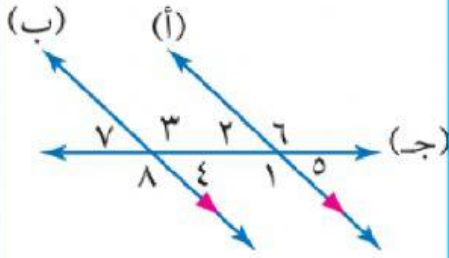
٤ > و ، ٢ >

5

٦ > و ، ٣ >

6

استعمل الشكل المجاور في حل الأسئلة
٣ - ١



1 أوجد $4 >$ ، إذا كان $5 = 34$

2 أوجد $1 >$ ، إذا كان $3 = 135$

3 أوجد $6 >$ ، إذا كان $8 = 126$