



# Liquidambar School



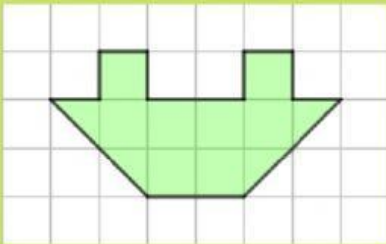
QUINTO grado  
Matemáticas

Mr. Salinas

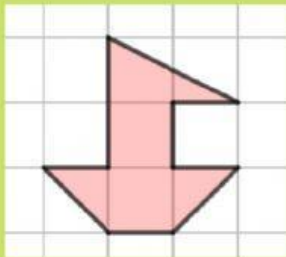
Escriba su nombre completo



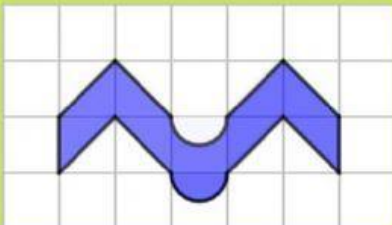
Una con una línea la figura pintada con su respectiva área



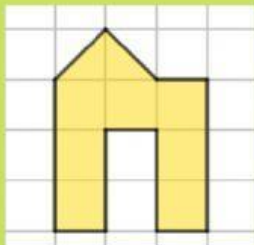
$$5 \text{ cm}^2$$



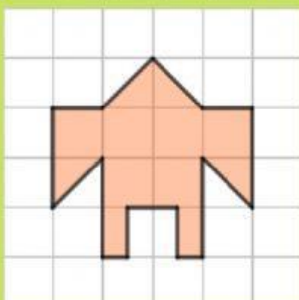
$$9 \text{ cm}^2$$



$$8 \text{ cm}^2$$



$$10 \text{ cm}^2$$



$$4 \text{ cm}^2$$



Sexto grado  
Matemáticas

Mr. Salinas

Arrastre el área hacia el espacio correspondiente de su figura

Un cuadrado de 11 cm  
de largo

R:

Un rectángulo cuyo  
ancho mide 6 cm y su  
largo mide 9 cm

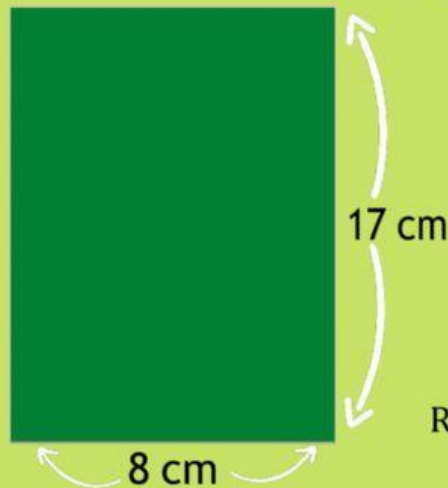
R:



R:



R:



R:

$136\text{cm}^2$

$9\text{cm}^2$

$54\text{cm}^2$

$121\text{cm}^2$

$65\text{cm}^2$