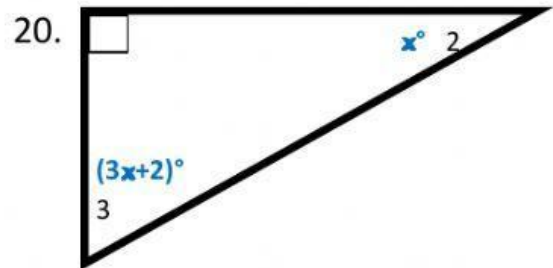
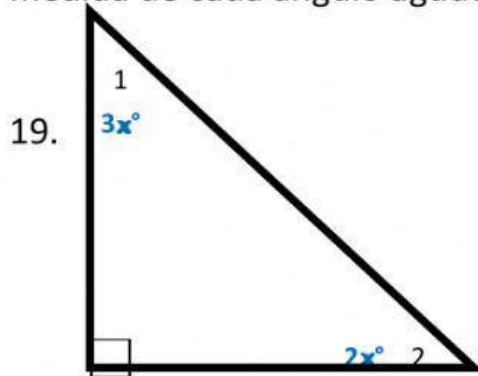


Nombre y apellido(s): _____

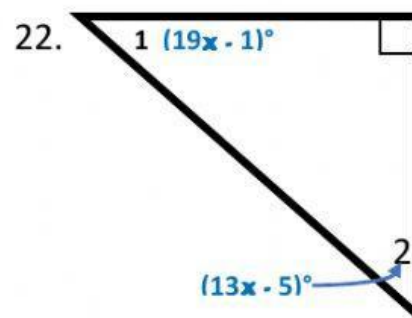
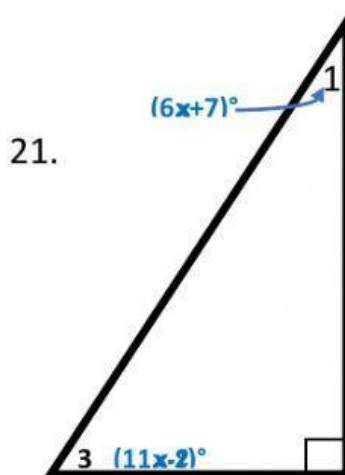
Fecha: _____ de _____ de 20 _____

Grado: _____ Grupo: _____ Sección: _____ Prof. Brenda Figueroa Villalba

Trabajo Diario: En los ejercicios 19-22, halla la medida de x y luego, halla la medida de cada ángulo agudo. Utiliza la tabla provista para tus respuestas.



#	Valor de x	Medida $\angle 1$	Medida $\angle 2$	Medida $\angle 3$
19.				90°
20.		90°		
21.			90°	
22.				90°



Referencias: Larson, R.; Boswell, L. (2015). Geometría; BIG IDEAS Learning; página 236.