


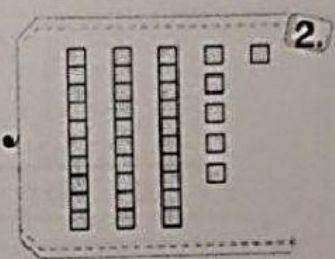
练习 11 数到 100

A 数一数，连一连。

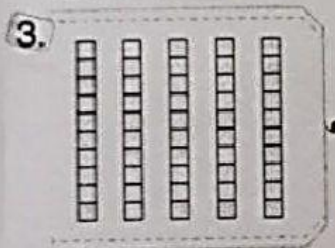
SP 1.2.1 SP 1.2.2 SP 1.3.1	TP1 讲述任何 100 以内的数目	掌握 ()	尚未掌握 ()
----------------------------------	--------------------	--------	----------



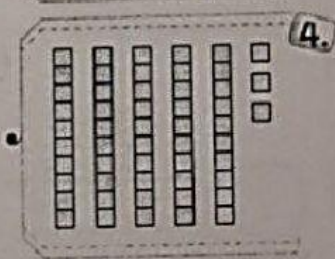
50




45



24



68



36



53

B 把数字写成文字或把文字写成数字。 **THINKER**

SP 1.3.1	TP1 讲述任何 100 以内的数目	掌握 ()	尚未掌握 ()
----------	--------------------	--------	----------

38	AS	25	AS	67	AS	79	
三十八	1.	<input type="text"/>	2.	<input type="text"/>	3.	<input type="text"/>	
47	AS	4.	<input type="text"/>	5.	<input type="text"/>	6.	<input type="text"/>
四十七		八十一		三十二		五十六	

练习 12 · 数位和数值

A 哪个计算架正确地表示数目？在 ○ 里画 ✓。


SP 1.2.2
SP 1.6.1

TP2 确定数值和依据次序正确地排列数目

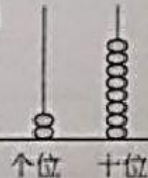
掌握 ()

尚未掌握 ()

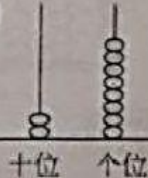
1.




(a)



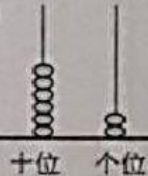
(b)



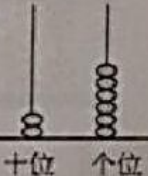
2.



(a)



(b)



B 根据计算架，填写答案。

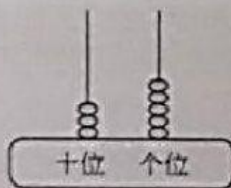
SP 1.2.2
SP 1.6.1

TP2 确定数值和依据次序正确地排列数目

掌握 ()

尚未掌握 ()

1.

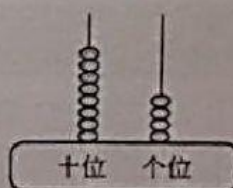


3 在 位上，数值是 。

5 在 位上，数值是 。

计算架代表的数目是 。

2.



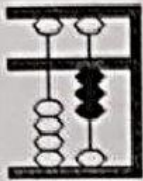
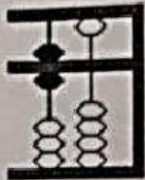
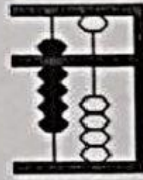

8 在 位上，数值是 。

4 在 位上，数值是 。

计算架代表的数目是 。

3 写出指定算珠的数位和数值。

SP 1.2.2 TP2 确定数值和依据次序正确地排列数目 掌握 () 尚未掌握 ()

<p>1</p>  <p>数位 <input type="text"/> 数值 <input type="text"/></p>	<p>2</p>  <p>数位 <input type="text"/> 数值 <input type="text"/></p>
<p>3</p>  <p>数位 <input type="text"/> 数值 <input type="text"/></p>	<p>4</p>  <p>数位 <input type="text"/> 数值 <input type="text"/></p>

D 写出画线数字的数位与数值。

SP 1.2.2 TP2 确定数值和依据次序正确地排列数目 掌握 () 尚未掌握 ()

数目	数位	数值
1 37		
2 <u>9</u> 5		
3 4 <u>6</u>		
4 3 <u>1</u>		
5 2 <u>0</u>		

数目	数位	数值
6 1 <u>8</u>		
7 <u>6</u> 3		
8 8 <u>2</u>		
9 <u>7</u> 6		
10 5 <u>0</u>		