



**Evaluación del Primer Parcial**  
**Segundo Quimestre**  
**Estudios Sociales**  
**Quinto grado**

**1. Analice el mapa y complete los datos solicitados de las partes principales del mapa.**



- **Título:**
- **Fuente:**
- **Qué representa el color naranja oscuro en la leyenda:**
- **Qué representa la línea morada en el perfil del mapa:**

**2. Lea y seleccione la respuesta correcta**

**¿Cuáles fueron los territorios que conformaron la República de Colombia?**

- ☐ Colombia, Medellín y Manizales
- ☐ Quito, Guayaquil, Portoviejo y Cuenca
- ☐ Venezuela, El nuevo Virreinato de Granada, Cundimarca y la Real Audiencia de Quito.
- ☐ Quito, Reino de España, Colombia y España.

**3. ¿A quién se nombró como presidente de la nueva República en 1819?**



## ESCUELA DE EDUCACIÓN BÁSICA PARTICULAR "CALIFORNIA"

DIRECCIÓN: CALLE 3 DE MAYO Y AV. AMÉRICA

E-MAIL: [escuela\\_california@hotmail.com](mailto:escuela_california@hotmail.com) CODIGO AMIE: 13H00134

TELÉFONO: 052934-208



### 4. Lea las siguientes interrogantes y escoja la respuesta correcta.

#### • ¿De qué está formada la región interandina o Sierra?

☐

De la cordillera de los Andes

☐

De la cordillera de Sumaco

#### • ¿Qué encontramos en el callejón interandino?

☐

Lagunas de agua salada

☐

valles

### 5. Lea los siguientes enunciados y coloque "V" si es verdadero o "F" si es falso, según corresponda.

- Las mujeres durante la Colonia, podían participar en el proceso de Independencia. ( )
- A las mujeres que se unían a las tropas eran apresadas, perseguidas y hasta fusiladas. ( )
- Las criollas proveían de refugio o escondite a los insurgentes y realistas. ( )
- Algunas mujeres fueron cocineras, enfermeras, cómplices, amigas de los soldados. ( )
- Algunas mujeres se las apresaba o hasta fusilaban si no ayudaban en la revolución a los soldados. ( )

### 6. Lea y relacione con líneas según corresponde.

- ¿Qué decide crear el Congreso de
- Angostura en 1819?
- ¿En qué consistía la Ley de Vientres?

- ¿Qué decidieron los pobladores de Cuenca, cuando se enteraron de la Independencia de Guayaquil?
- ¿Qué sucedió en 1830 con la Gran Colombia?

- La Gran Colombia

- Libertad a los hijos de esclavos a partir de su nacimiento

- Se desintegra y pasó a llamarse República de Colombia

- Declarar su independencia.





7. Resuelva la sopa palabras.

¿Qué callejón forma las dos cadenas montañosas (occidental y oriental)?

I	N	T	E	R	A	N	D	I	N	O
E	T	R	E	O	U	F	A	C	O	R
I	N	T	E	B	R	A	N	D	I	N
D	X	T	T	L	Z	E	S	T	E	P
R	O	C	A	F	U	E	R	T	E	O

8. Lea, escoja y escriba las palabras para completar el enunciado.

6 rocas

viento

3 golpes

manto


núcleo

corteza agua

Los suelos tienen alrededor de                    metros de profundidad, se encuentra en la capa superficial de la                    terrestre. Los suelos se forman por la desintegración de las                    a causa del viento,                    y                    .


9. Lea y arrastre los tipos de suelos con su característica.

Suelos Aluviales



Se han formado por la acumulación de ceniza volcánica.

Suelos Minerales



se han formado por la acción de corrientes de agua.

Suelos formados sobre restos volcánicos.



Son pedregosos y delgados y no sirven para la agricultura.



## ESCUELA DE EDUCACIÓN BÁSICA PARTICULAR "CALIFORNIA"

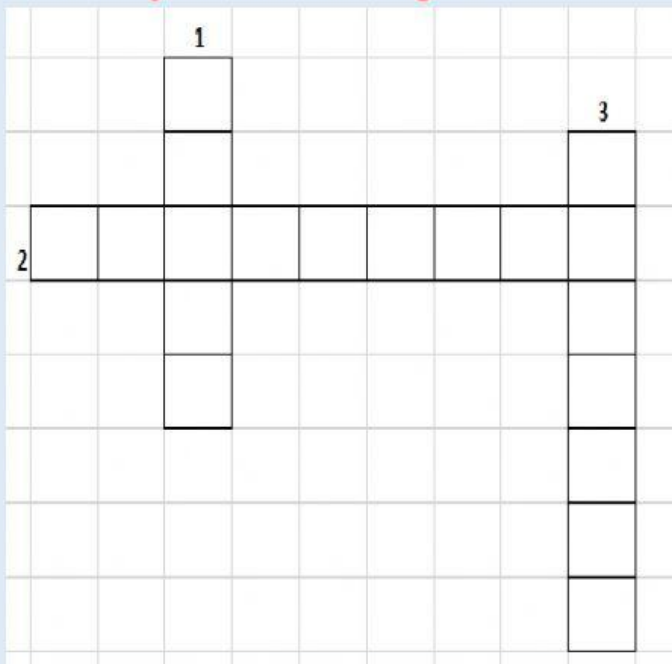
DIRECCIÓN: CALLE 3 DE MAYO Y AV. AMÉRICA

E-MAIL: [escuela\\_california@hotmail.com](mailto:escuela_california@hotmail.com) CODIGO AMIE: 13H00134

TELÉFONO: 052934-208



### 10. Lea y resuelva el crucigrama.



#### Verticales

1. Apellido del Mariscal que comandó la batalla en las faldas del Volcán Pichincha.

3. ¿Qué sucedió el 24 de mayo de 1822 en las faldas del volcán Pichincha?

#### Horizontales

2. Nombre del volcán dónde se ocultó el ejército del Mariscal Sucre el 20 de mayo de 1822, para luego atacar al ejército realista 4 días más tarde.