


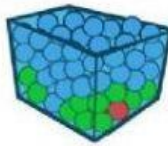
“¿Seguro, posible o imposible?”


META



Mi propósito del día de hoy será, es que aprenderemos a identificamos sucesos seguros, probables e imposibles

Escoge la probabilidad correcta:

| | |
|---|---|
| <p>Sacar una bola amarilla</p>  <div style="display: flex; align-items: center;"> <input type="checkbox"/> Seguro <input type="checkbox"/> Posible <input type="checkbox"/> Imposible </div> | <p>Sacar una bola verde</p>  <div style="display: flex; align-items: center;"> <input type="checkbox"/> Seguro <input type="checkbox"/> Posible <input type="checkbox"/> Imposible </div> |
|---|---|

| | |
|--|--|
| <p>Sacar una bola roja</p>  <div style="display: flex; align-items: center;"> <input type="checkbox"/> Seguro <input type="checkbox"/> Posible <input type="checkbox"/> Imposible </div> | <p>Sacar una bola negra</p>  <div style="display: flex; align-items: center;"> <input type="checkbox"/> Seguro <input type="checkbox"/> Posible <input type="checkbox"/> Imposible </div> |
|--|--|

¿Cómo es cada suceso? Observa los dibujos y completa.




Coger sin mirar un calcetín de rayas es un suceso

_____, porque _____
_____.



Coger sin mirar un pastelito es un suceso

_____, porque _____
_____.



Coger sin mirar una raqueta es un suceso

_____, porque _____
_____.