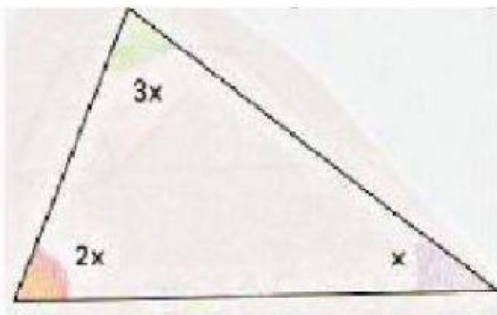


TRIÁNGULOS

1., Completa:


- a. En todo triángulo la suma de sus ángulos interiores es
- b. Un triángulo de tres lados iguales se llama
- c. Un triángulo escaleno tiene 3 lados
- d. Si un triángulo que tiene un ángulo que mide 90° se llama:

2., Halla el valor de x en el siguiente triángulo

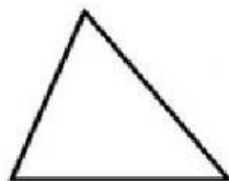


$x =$

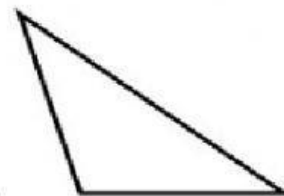
3.-Relaciona cada triángulo con su clase según sus ángulos.



OBTUSÁNGULO



RECTÁNGULO



ACUTÁNGULO