


PASTEMA 4

KELUARGAKU



SERIMPI
CLASS

SDN
ANGKE 03 PAGI

SERIMPI CLASS
SDN ANGKE 03 PAGI
PAS 2020/2021



JUMAT, 3 DESEMBER 2021

SAYA SIAP PAS
SAYA BERANI JUJUR

Jumat, 3 Desember 2021



E – LKPD
ELECTRONIC– LEMBAR KERJA
PESERTA DIDIK
PENILAIAN AKHIR SEMESTER
GANJIL TA 2021 –2022
BERBASIS HOTS
(HIGHER ORDER THINKING SKILL)
SERIMPI CLASS
SDN ANGKE 03 PAGI

NAMA: _____

NO ABSEN: _____



Petunjuk Pengisian E-LKPD



1. Tuliskan identitas kalian pada kotak disediakan!
2. Kerjakan setiap kegiatan yang ada pada LKPD ini.
3. Bacalah setiap petunjuk kegiatan dengan teliti sebelum mengerjakan.
4. Berdoalah sebelum mengerjakan.
5. Jika E-LKPD sudah dikerjakan semua, klik finish.
6. Setelah klik finish, maka akan muncul gambar berikut

Enter your full name:

Group/level:

School subject:


7. Pada kotak Enter your full name, tuliskan nama lengkap kalian.
 - a. Pada kotak Group/level, isi dengan angka 1
 - b. Pada kotak School subject, tuliskan SDN ANGKE 03 PAGI.

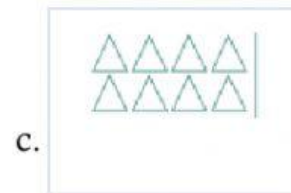


SILANG SALAH SATU JAWABAN YANG TEPAT



I. MATEMATIKA KD. 3.5 – 3.6

1.  Pola gambar yang tepat untuk kotak yang kosong adalah... .



2. **2 - 5 - 8 - 11**

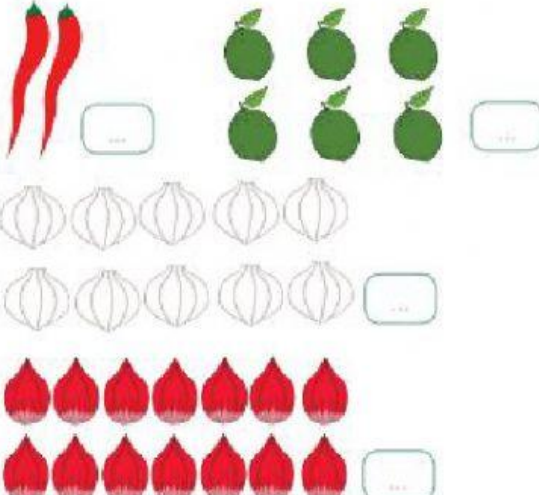
Urutan bilangan tersebut, adalah urutan bilangan dengan pola loncat... .

- a. 2 b. 3 c. 4

3. **5 - 9 - ____ - 17**

Urutan bilangan selanjutnya pada pola bilangan tersebut adalah...

- a. 12 b. 13 c. 14


4. 

Pola bilangan yang tepat sesuai dengan gambar adalah... .

- a. $2 - 6 - 10 - 13$
- b. $2 - 6 - 10 - 14$
- c. $2 - 4 - 10 - 14$



5. udin berlatih mengukur panjang berbagai benda di rumah. Cara pengukuran yang dilakukan udin menggunakan satuan
- a. Baku
 - b. tidak baku
 - c. tidak urut
6. Gambar berikut yang menunjukkan pengukuran dengan satuan tidak baku adalah... .



7. ukuran satuan baku tidak baku yang digunakan pada gambar adalah... .
- a. Depa
 - b. hasta
 - c. jengkal



8. perhatikan gambar. Pernyataan yang tepat sesuai gambar adalah... .
- a. Sandal lebih ringan dari sepatu

- b. Sepatu lebih ringan dari sandal
- c. Sepatu sama ringan dari sandal



9. urutan benda dari yang terberat, berdasarkan gambar adalah... .

- a. Perahu kertas – tas – batu
- b. Tas – batu - perahu kertas
- c. Batu – tas – perahu kertas

10. Berdasarkan pengukuran dengan satuan tidak baku, benda benda berikut, yang ukurannya paling berat adalah .. .



II. SBDP KD. 3.4

1. Bahan alam yang digunakan untuk membuat karya berikut



adalah... .

- a. Manik manik b. biji bijian c. origami

2. Gambar berikut yang termasuk karya kolase adalah... .



a.



b.



c.

3. Gambar berikut yang termasuk bahan alam untuk membuat karya seni adalah... .



a.



b.



c.



4. bahan alam yang digunakan untuk menghias pigura pada gambar adalah... .

- a. Ranting kayu b. daun kering c. kerrang

5. Bahan yang tidak dapat digunakan untuk mewarnai adalah....

- a. Crayon b. kapur c. Pensil warna