

















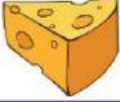






















NÚMEROS DEL 0 AL 49



1. Descubre los números que están detrás de los dibujos y escríbelos abajo.

0	1		3		5		7		9
		12		14		16		18	19
20		22	23		25		27		29
	31		33	34				38	
40		42		44	45				49

	<input type="text"/>		<input type="text"/>		<input type="text"/>		<input type="text"/>		<input type="text"/>
	<input type="text"/>		<input type="text"/>		<input type="text"/>		<input type="text"/>		<input type="text"/>
	<input type="text"/>		<input type="text"/>		<input type="text"/>		<input type="text"/>		<input type="text"/>

2. Coloca los números y enumera los vagones del tren.

43 41 45 40 48 42 49 44 46 47

