



Ayuda a cada impostor a buscar las dos fracciones equivalentes que hay en cada rectángulo.



$$\frac{2}{4}$$

$$\frac{4}{8} \quad \frac{5}{12} \quad \frac{8}{16} \quad \frac{6}{9}$$



$$\frac{3}{6}$$

$$\frac{4}{8} \quad \frac{9}{18} \quad \frac{27}{54} \quad \frac{1}{2}$$



$$\frac{2}{10}$$

$$\frac{4}{20} \quad \frac{9}{18} \quad \frac{27}{54} \quad \frac{8}{40}$$



$$\frac{7}{12}$$





$$\frac{10}{16} \quad \frac{14}{24} \quad \frac{15}{5} \quad \frac{28}{48}$$



$$\frac{5}{8}$$

$$\frac{10}{16} \quad \frac{20}{32} \quad \frac{15}{5} \quad \frac{6}{4}$$

Cada nave tiene que llegar a su destino, marca los cuadros que indica cada fracción.



Escribe las fracciones que representan en cada figura y une cada una con su equivalencia.

