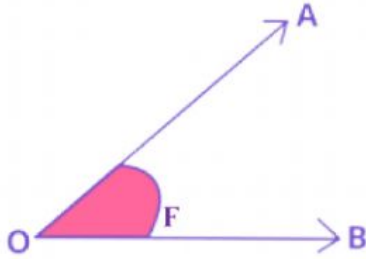


1. Studia il disegno sotto. Indica le parti dell'angolo. Scrivi le risposte nella linea accanto a ciascuna lettera

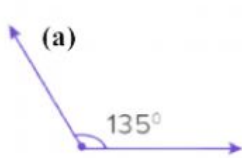


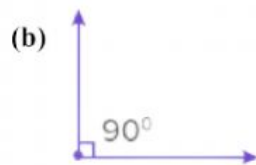
- A. _____
- B. _____
- F. _____
- O. _____

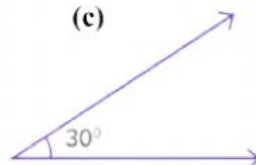
2. Completa ciascuna frase sotto, identificando i vari tipi di angolo

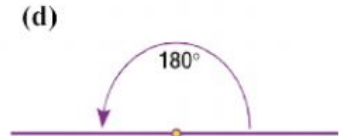
- I. Un angolo _____ misura 180 gradi.
- II. Un angolo acuto misura meno di _____ gradi.
- III. Un angolo _____ misura esattamente 90 gradi.
- IV. Un angolo _____ misura tra 90 e 180 gradi.

3. Scrivi il nome dell'angolo nella linea sotto ciascun disegno

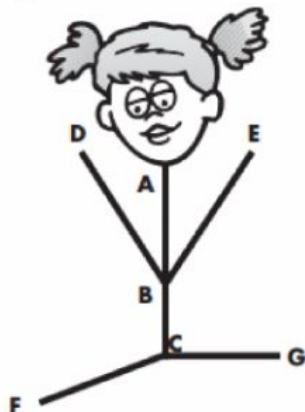








4. Guarda l'immagine. Scrivi il nome di ogni tipo di angolo nella linea accanto



- (a) $\hat{A}BE$ _____
- (b) $\hat{F}CG$ _____
- (c) $\hat{A}CG$ _____
- (d) $\hat{A}BC$ _____