

Nombre: _____

Contar hasta 100

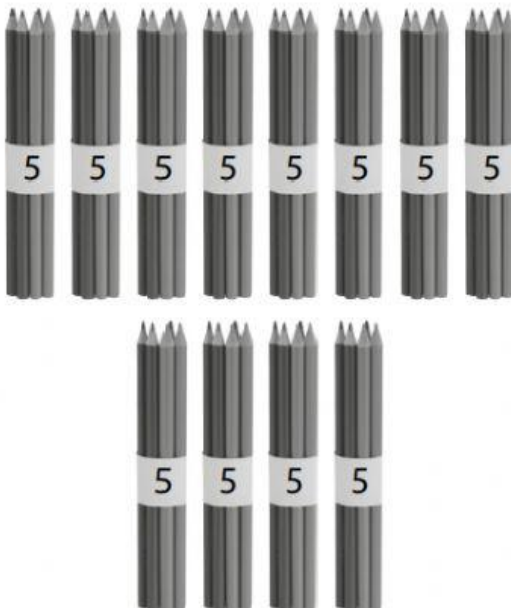
Cuenta e indica la cantidad

1 ¿Cuántos lápices hay?




Respuesta: lápices.

2 ¿Cuántos lápices hay?




Respuesta: lápices.

3 ¿Cuántos lápices hay?




Respuesta: lápices.

4 ¿Cuántos pétalos hay?



Respuesta pétalos.


5 ¿Cuántos hay?



Respuesta: pétalos.

Cuenta de 10 en 10 para llega a la respuesta

1 ¿Cuántas hay?






Respuesta: mandarinas.


2 Completa.



11



3 Completa.



Respuesta: huevos.