


KIỂM TRA TOÁN




Sắp xếp các toa tàu theo thứ tự:

a. Từ lớn đến bé.



b. Từ bé đến lớn.



2

Em hãy kéo số thích hợp vào dưới tranh.



?



?



?

0

1

2

3


4

5

?

?

?





Điền số (theo mẫu).

7	
1	6
	5
3	

8	
2	
	5
4	




9	
2	
3	
	5

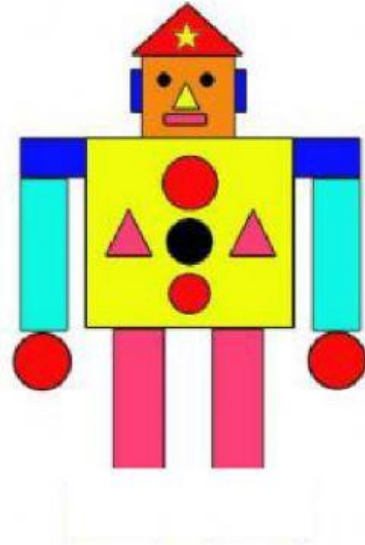




Điền số.

Hình bên có:

- 
- 
- 
- 



5

Em hãy điền dấu > ; < ; = vào ô trống



6

Em hãy điền số vào ô trống cạnh mỗi đám mây.

