





## Practicando lo aprendido con Go Math

1.- Cada figura es 1 entero. Escribe una fracción mayor que 1 para las partes que están sombreadas.



$$4 = \underline{\hspace{2cm}}$$

2.- Con base a la siguiente imagen responde:



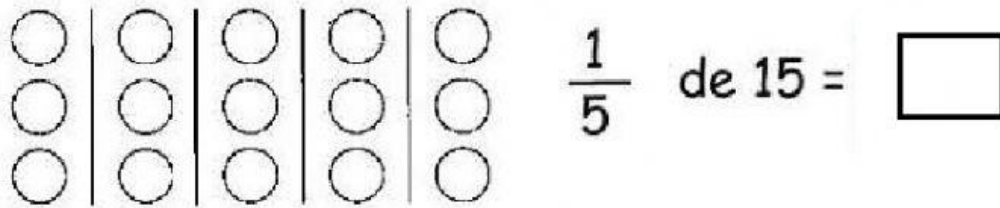
- ¿Qué fracción representa los frutos rojos con respecto al total de elementos?

R// 


- ¿Qué fracción representa los frutos amarillos con respecto al total de elementos?

R// 


3.- Encuentre las fracciones de las siguientes cantidades



4.- En un zoológico hay 2 leones machos. Un sexto ( $\frac{1}{6}$ ) de los leones son machos. ¿Cuántos leones hay en el zoológico?

R// Hay \_\_\_\_\_ leones