

(LMPD)
LEMBAR MATERI PESERTA DIDIK

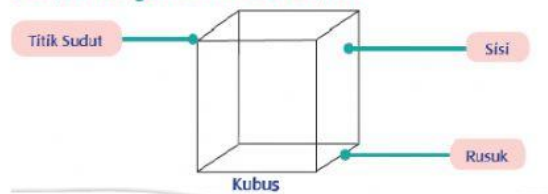
Nama Sekolah : SDN Neglasari 1
Mata Pelajaran : MATEMATIKA
Tema/Subtema : 4 / 3
Hari/Tanggal : Rabu, 01 Desember 2021

- Matematika Pembelajaran 4 dan 6 (Lihat buku LKS kalian halaman 46 dan 50)
Petunjuk Kegiatan Belajar Matematika:


1. Simaklah video pembelajaran di bawah ini terkait materi menentukan rusuk, sisi, dan titik sudut.

Bangun ruang mempunyai rusuk, sisi, dan titik sudut.
Tahukah kamu rusuk, sisi, dan titik sudut pada kubus dan balok?

Perhatikan gambar di bawah ini!



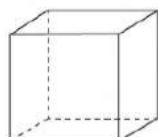
Ayo gali materi lebih banyak dari video di bawah ini!



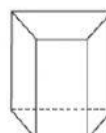
2. Kerjakanlah latihan dibawah ini dengan menulis jawaban kamu pada buku tulis ya!



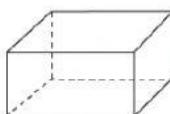
Hitunglah banyak rusuk, sisi, dan titik sudut bangun-bangun ruang berikut!



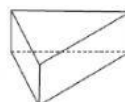
Banyak Rusuk : ...
Banyak Sisi : ...
Banyak Titik Sudut : ...



Banyak Rusuk : ...
Banyak Sisi : ...
Banyak Titik Sudut : ...



Banyak Rusuk : ...
Banyak Sisi : ...
Banyak Titik Sudut : ...



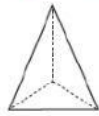
Banyak Rusuk : ...
Banyak Sisi : ...
Banyak Titik Sudut : ...

3. Kerjakanlah latihan dibawah ini dengan menulis jawaban kamu pada buku tulis ya!

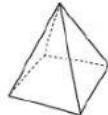
Ayo Berdiskusi



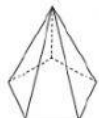
Jodohkan bangun ruang yang sesuai dengan banyak rusuk, sisi, dan titik sudut berikut!



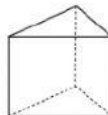
Banyak Rusuk : 12
Banyak Sisi : 6
Banyak Titik Sudut : 8



Banyak Rusuk : 9
Banyak Sisi : 5
Banyak Titik Sudut : 6



Banyak Rusuk : 6
Banyak Sisi : 4
Banyak Titik Sudut : 4



Banyak Rusuk : 15
Banyak Sisi : 7
Banyak Titik Sudut : 10