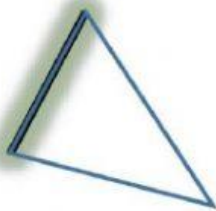


El triángulo y sus elementos

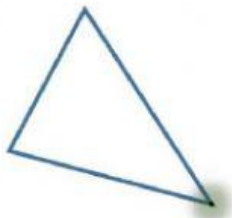
1. Asocia cada elemento con su nombre



Lado

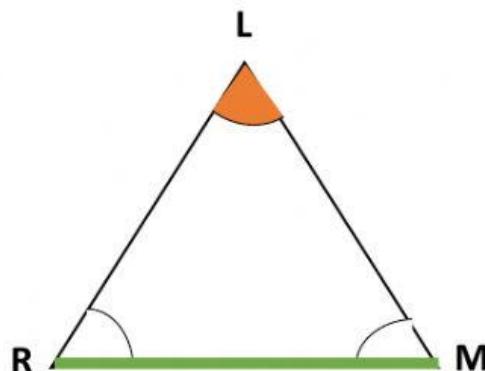


Ángulo



Vértice

2. Observe el siguiente triángulo y marque la respuesta correcta en cada caso





2.1 Los vértices del triángulo son:

- a) L, R, M
- b) l, r, m
- c) A, b, C

2.2 El lado de color verde es el segmento:

- a) \overline{RL}
- b) \overline{LM}
- c) \overline{RM}

2.3 El ángulo de color naranja es:

- a) $\angle RLM$
- b) $\angle LRM$
- c) $\angle LMR$