

NÚMEROS Y PUNTAJES

- Mirá el puntaje que logró cada uno de estos chicos, encerrá el mayor y el menor.



- Completá estas oraciones con los nombres de los números.

Ciro hizopuntos.

Alfonso hizopuntos.

Antonia hizopuntos.

Luna hizopuntos.

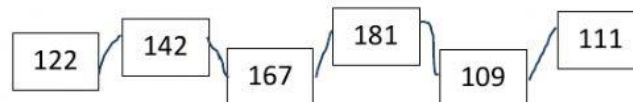
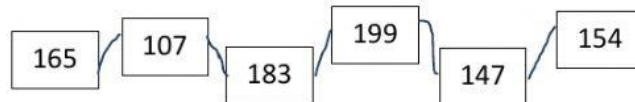
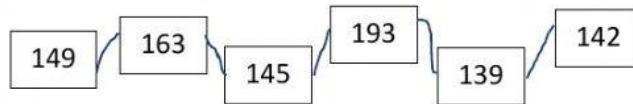
Pedro hizopuntos.

Marcos hizopuntos.



NOS EJERCITAMOS

- Buscá y hacé clic sobre el número mayor y el número menor.



- Completá el cuadro.

NÚMERO	ANTERIOR	POSTERIOR	SU NOMBRE...
109			
173			
168			
125			
130			
198			
155			

