



Evaluación de seguimiento

Martes 30 de noviembre de 2021.

Contesta las siguientes sumas. No simplifiques y utiliza factorización cuando sea necesario:

1

$$\frac{7}{20} + \frac{9}{20} + \frac{3}{20} = \underline{\hspace{2cm}}$$

2

$$\frac{13}{50} + \frac{9}{50} + \frac{20}{50} = \underline{\hspace{2cm}}$$

3

$$\frac{1}{6} + \frac{1}{2} + \frac{3}{14} = \underline{\hspace{2cm}}$$

4

$$\frac{1}{5} + \frac{2}{3} + \frac{1}{9} = \underline{\hspace{2cm}}$$



Martes 30 de noviembre de 2021.

Completa la siguiente factorización utilizando sólo los cuadros necesarios.:

Números primos: 2, 3, 5, 7...

Factoriza:
15 , 30 , 60

Resultado:

<input type="text"/>	<input type="text"/>	<input type="text"/>	<input type="text"/>
<input type="text"/>	<input type="text"/>	<input type="text"/>	<input type="text"/>
<input type="text"/>	<input type="text"/>	<input type="text"/>	<input type="text"/>
<input type="text"/>	<input type="text"/>	<input type="text"/>	<input type="text"/>
<input type="text"/>	<input type="text"/>	<input type="text"/>	<input type="text"/>
<input type="text"/>	<input type="text"/>	<input type="text"/>	<input type="text"/>

<input type="text"/>	\times	<input type="text"/>	$=$	<input type="text"/>
<input type="text"/>	\times	<input type="text"/>	$=$	<input type="text"/>
<input type="text"/>	\times	<input type="text"/>	$=$	<input type="text"/>
<input type="text"/>	\times	<input type="text"/>	$=$	<input type="text"/>
<input type="text"/>	\times	<input type="text"/>	$=$	<input type="text"/>
<input type="text"/>	\times	<input type="text"/>	$=$	<input type="text"/>



Martes 30 de noviembre de 2021.

En la dulcería "Sonríe" realizan dulceros para regalar a los niños en situación de calle. Cada dulcero contiene 12 dulces.

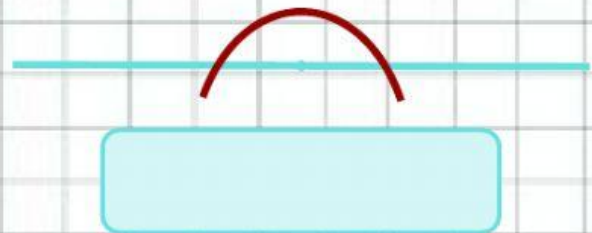
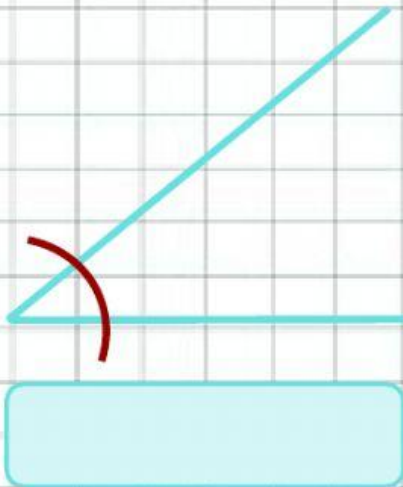
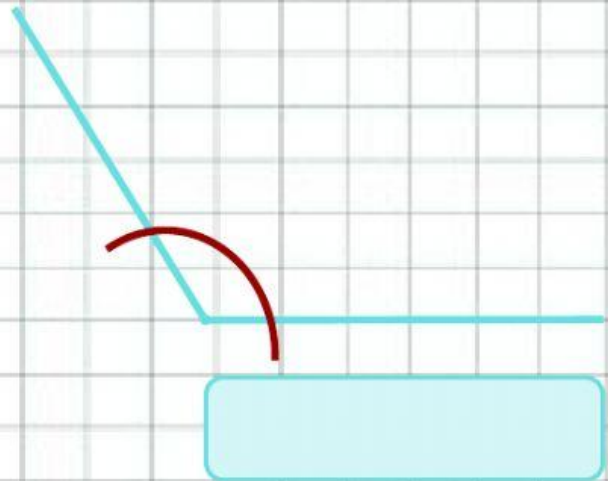
Completa la siguiente tabla:

Dulces recaudados	Cantidad de dulceros	Dulces sobrantes
150		6
	20	11
780		
1,025		5
	100	10



Martes 30 de noviembre de 2021.

Escribe el nombre que lleva cada ángulo dependiendo de su medida:



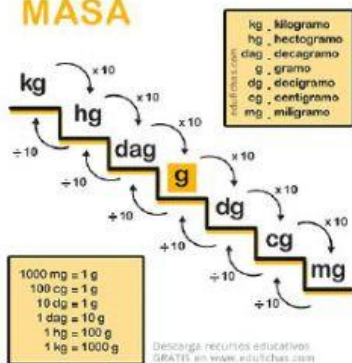


Martes 30 de noviembre de 2021.

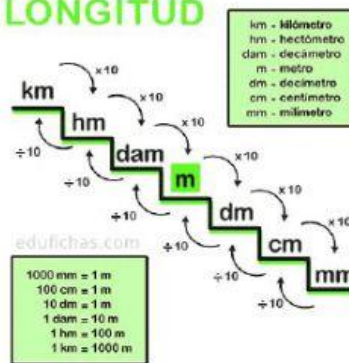
Recuerda estudiar tus tablas de unidades de medida:

Unidades de medida

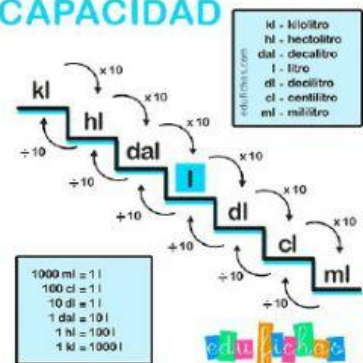
MASA



LONGITUD



CAPACIDAD



Y el uso de la regla de tres:

