

Nombre completo:

Fecha:

Igual	Mayor que	Menor que
=	>	<
5 = 5	5 > 4	5 < 6

Comparando fracciones

Compara las fracciones y escribe en cada círculo <, > o =, según corresponda.

$\frac{3}{4} \bigcirc \frac{1}{4}$

$\frac{5}{7} \bigcirc \frac{6}{7}$

$\frac{2}{10} \bigcirc \frac{8}{10}$

$\frac{2}{6} \bigcirc \frac{2}{3}$

$\frac{1}{2} \bigcirc \frac{5}{8}$

$\frac{5}{18} \bigcirc \frac{1}{3}$

$\frac{4}{5} \bigcirc \frac{22}{25}$

$\frac{5}{6} \bigcirc \frac{33}{42}$

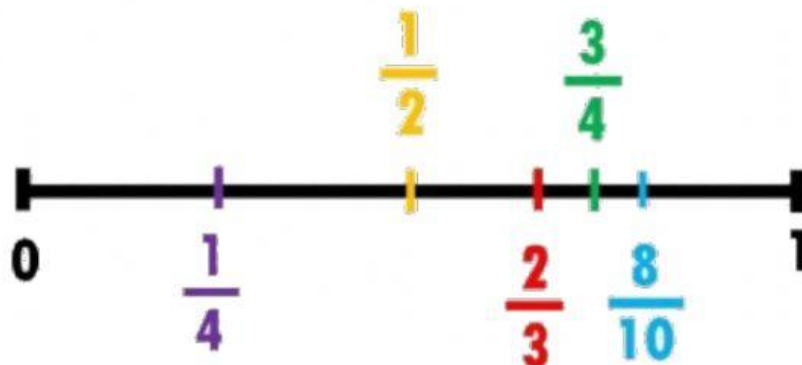
$\frac{80}{100} \bigcirc \frac{4}{5}$

$\frac{15}{21} \bigcirc \frac{4}{7}$

$\frac{4}{16} \bigcirc \frac{12}{24}$

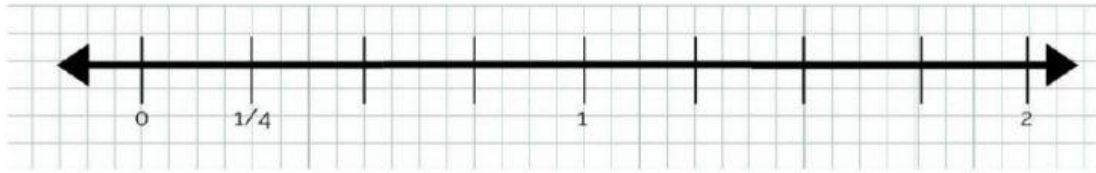
$\frac{36}{81} \bigcirc \frac{18}{27}$

Vamos a ordenar dentro de la recta

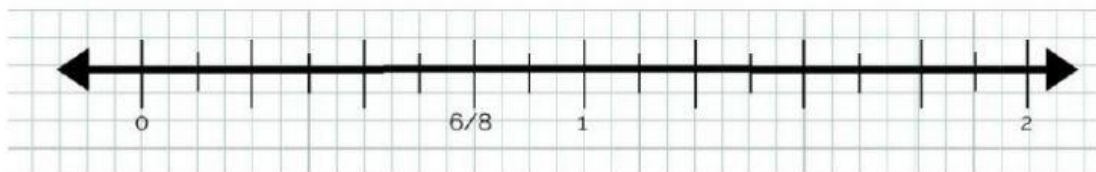


Arrastrá las fracciones naranjas para ubicarlas en la recta numérica.

1. Ubicá $\frac{1}{2}$ y $\frac{6}{4}$



2. Ubicá $\frac{3}{8}$ y $\frac{3}{2}$



3. Ubicá $\frac{2}{3}$ y $\frac{8}{6}$



2. Ubicá $\frac{8}{10}$ y $\frac{7}{5}$

