



Pictogramas


1. Lee y observa los datos de la tabla. Luego responde.

Objeto	Cantidad
Sombrilla	 
Gorro	     
Lentes de sol	   

Si se sabe que cada  = 15

a) ¿Cuántas sombrillas hay?

b) ¿Cuántos gorros más que lentes de sol hay?

2. Si cada  es igual a S/50. ¿Cuál fue el total de autos vendidos en los cuatro meses? Completa la tabla y responde.

Mes	Autos Vendidos	Total
Mayo	  	S/ <input type="text"/>
Junio	   	S/ <input type="text"/>
Julio	     	S/ <input type="text"/>
Agosto	  	S/ <input type="text"/>

En los cuatro meses se vendieron S/ autos.

Miss
CINDY