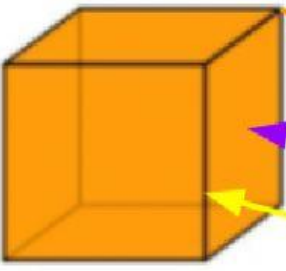
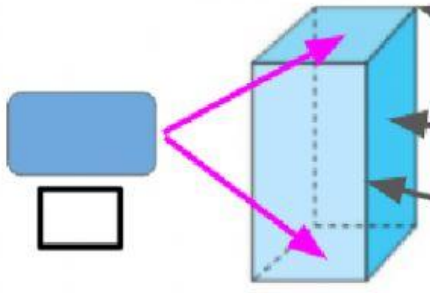
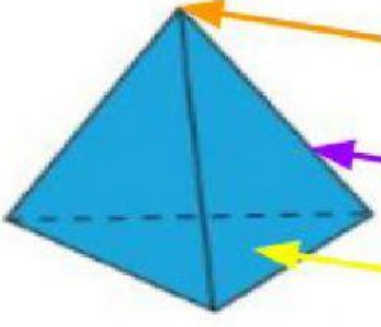
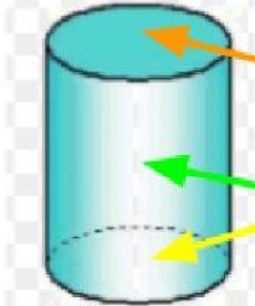


SÓLIDOS GEOMÉTRICOS

Área: Matemática		
Nivel: Grundshule	Trimestre: III	Grado: 3ero
Estudiante:		Fecha:
Profesoras: Ana Rojas, Andrea Palomino, Verónica Contreras		

1.- Completa cada cuadro con el nombre que corresponda. Luego escribe la cantidad de elementos que tenga.

	Elementos	Cantidad
	Vértice	<input type="text"/>
		<input type="text"/>
	Elementos	Cantidad
		<input type="text"/>
		<input type="text"/>
	Elementos	Cantidad
		<input type="text"/>
		<input type="text"/>
	Elementos	Cantidad
		<input type="text"/>
		<input type="text"/>