

Matemáticas Repaso

INTERPRETACIÓN Y CONSTRUCCIÓN DE TABLA DE DATOS




1. El jardinero ha anotado en esta tabla el tipo de flores que tiene.. ¿Cuántas flores hay de cada clase? Contesta y completa la tabla.

¿Cuántas rosas blancas hay?

¿Y tulipanes?

¿Cuántas petunias rojas hay?

¿Cuántos tulipanes hay en total?

	 rosa	 tulipán	 petunia
Rojo	14	16	21
Blanco	11	12	10

Observa la tabla y escribe cuantas flores hay de cada tipo.

Rosa roja Tulipán rojo Petunia blanca Tulipán blanco

2. En la pajaría hay muchos pájaros. ¿Cuántos pájaros hay de cada clase? Contesta y completa la tabla.

• ¿Qué colores de pájaros hay?

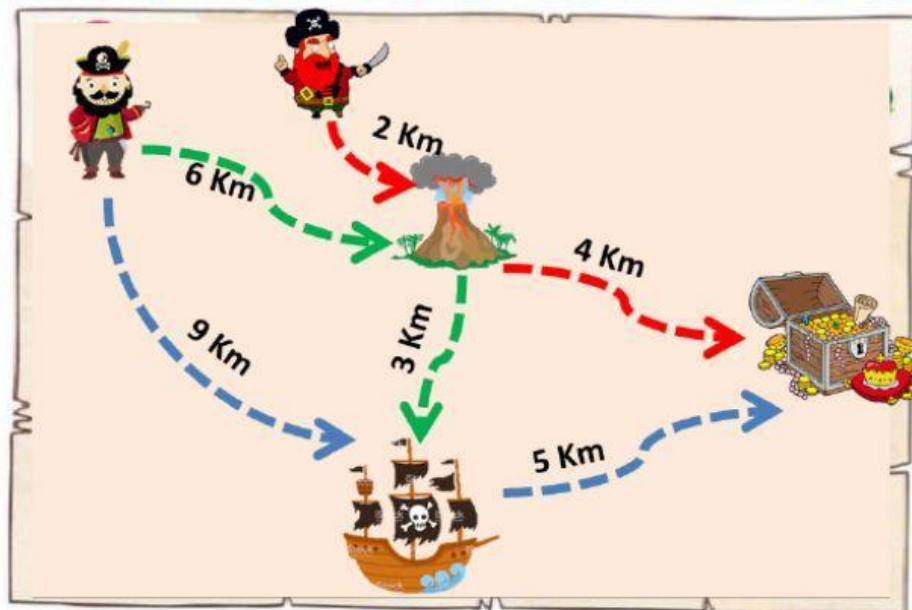
• ¿Qué tamaño de pájaros hay?

PÁJAROS	VERDES	ROSAS	AMARILLOS
GRANDES			
PEQUEÑOS			



Matemáticas Repaso

3. Los piratas Barba Negra y Barba Roja quieren llegar al tesoro. Fíjate bien en el mapa del tesoro y contesta a las preguntas..



- ¿A dónde lleva el camino verde?
- ¿Qué caminos hay que coger para llegar al tesoro?
- ¿Qué caminos pasan por el volcán?
- ¿Cuántos kilómetros hay desde el pirata Barba Roja hasta el tesoro?
- ¿Cuál es el camino más corto para llegar al tesoro?
- ¿Por donde puede pasar el pirata Barba Negra para llegar al tesoro?
- ¿Por dónde tienen que pasar los piratas para llegar al tesoro?

Escribe dos caminos para llegar al tesoro por y calcula su longitud.

Barba Roja Tesoro = Kms

Barba Negra Tesoro = Kms