



# DESAFÍO MATEMÁTICO

## POKÉMON



1

Resuelve estos ejercicios y arrastra el resultado donde corresponda para descifrar el rompecabezas.


$\begin{array}{r} 126 \\ + 542 \\ \hline \end{array}$	$\begin{array}{r} 569 \\ - 212 \\ \hline \end{array}$	$\begin{array}{r} 338 \\ + 257 \\ \hline \end{array}$	$\begin{array}{r} 599 \\ - 157 \\ \hline \end{array}$	$\begin{array}{r} 629 \\ + 354 \\ \hline \end{array}$
$\begin{array}{r} 973 \\ - 438 \\ \hline \end{array}$	$\begin{array}{r} 450 \\ + 122 \\ \hline \end{array}$	$\begin{array}{r} 857 \\ - 463 \\ \hline \end{array}$	$\begin{array}{r} 813 \\ + 179 \\ \hline \end{array}$	$\begin{array}{r} 682 \\ - 541 \\ \hline \end{array}$




2


Resuelve las siguientes multiplicaciones y divisiones y elige la pokébola con el resultado correcto.


**34 X 4**

  
**136**

  
**147**


**63:2 =**


  
**41**

  
**31**



**84:2 =**

  
**42**

  
**59**


**60 X 7**


  
**430**

  
**420**





**83 X 5**

  
**349**

  
**415**

**96:3 =**

  
**32**

  
**36**

