


Hari / Tanggal	: Selasa, 30 November 2021	Nilai	Paraf Guru	Paraf Orang Tua
Waktu	: 08.30-09.30 WIB			
Mata Pelajaran	: Matematika			
Nama Siswa	: _____			
Kelas	: I (satu)			

PENILAIAN AKHIR SEMESTER GASAL TP. 2021/2022

Berilah tanda silang pada jawaban yang paling benar!

3.1 Menjelaskan makna bilangan cacah

1. Jumlah benda pada gambar adalah



- A. 30 B. 25 C. 35



2. Lambang bilangan sesuai banyak sepatu tersebut adalah
A. 32 B. 25 C. 24
3. Nama bilangan **75** adalah
4. lambang bilangan dari "**delapan puluh sembilan**" adalah ...

3.4 Menjelaskan dan melakukan penjumlahan dan pengurangan

5. Hasil dari $14 + 6$ adalah
A. 8 B. 20 C. 19

6. Hasil penjumlahan pada gambar adalah



- A. 15 B. 16 C. 17

7. Hasil pengurangan sesuai gambar adalah

- A. 6
B. 7
C. 8



8. Pak Ahmad menanam 20 pohon mangga. Pak Rudi menanam 30 pohon manga. Jumlah pohon mangga yang mereka tanam adalah
9. Khalid punya 24 kelereng. Khalid berbagi pada Anas sebanyak 10 kelereng. Jumlah kelereng Khalid sekarang adalah

3.5 Mengenal pola bilangan yang berkaitan dengan kumpulan benda/gambar/gerakan atau lainnya

10. Angka yang paling tepat adalah

- A. 9
B. 8
C. 11

POLA BILANGAN
1, 3, 5, 7, ...

11. 2 puluhan + 8 satuan = ...

- A. 28 B. 18 C. 38

12. 3 puluhan + ... satuan = 36

Bilangan yang tepat untuk melengkapi soal adalah

- A. 3 B. 6 c. 9

13. Perhatikanlah! 22, 23, ..., ..., 26, 27. Bilangan yang tepat untuk melengkapi pola bilangan adalah

14. Jumlah kelereng pada kotak keempat adalah



3.6 Mengenal bangun ruang dan bangun datar dengan menggunakan berbagai benda konkret

15. Contoh benda yang berbentuk lingkaran adalah

- A. roda
B. buku
C. kotak pensil

16. Kaleng susu berbentuk ...

- A. balok
- B. tabung
- C. kubus



17. Bentuk kertas di buku tulismu berbentuk ...

18. Bentuk caping pak tani tersebut mirip dengan bentuk segi ...



19. Contoh benda yang berbentuk tabung adalah

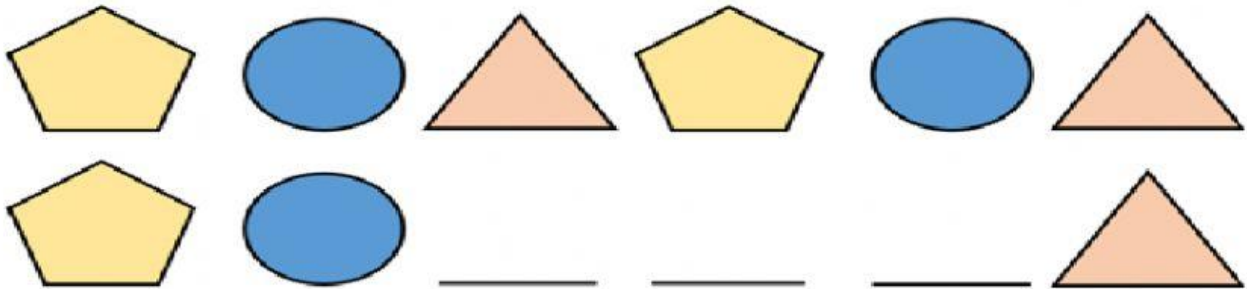
3.7 Mengidentifikasi bangun datar yang dapat disusun membentuk pola pengubinan

20. pola yang tepat untuk kumpulan pola di gambar adalah



- A. 3 bintang dan 4 bulan
- B. 3 bulan dan 4 bintang
- C. 3 bintang dan 2 bulan

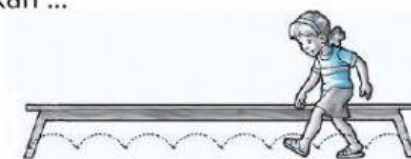
21. Sebutkan nama bangun datar pada pola pengubinan tersebut!



3.8 Mengenal dan menentukan panjang dan berat dengan satuan tidak baku menggunakan benda/situasi konkret

22. Anak tersebut menghitung berdasarkan ...

- a. Depa
- b. Langkah
- c. jengkal




23. Angka pada penggaris menunjukkan 1 jengkal sebanyak ... centimeter.

- A. 8
- B. 9
- C. 10



24. Panjang kayu tersebut adalah ... jengkal.



25. Siswa tersebut mengukur papan tulis dengan menggunakan



26. Anak tersebut mengukur jarak sebanyak Langkah.



3.9 Membandingkan panjang, berat, lamanya waktu, dan suhu menggunakan benda/ situasi konkret

27.



- A. Lebih banyak dari
- B. Lebih sedikit dari
- C. Sama banyak

28. Simbol yang tepat untuk membandingkan bilangan lebih kecil adalah

- A. <
- B. >
- C. =

29. Aisyah membeli 12 permen. Fatimah membeli 15 permen. Permen Aisyah lebih ... dari permen Fatimah.

30. Krayon yang paling panjang adalah krayon warna

