

A 圈出正确的答案。

1. 图 1 显示永一在进行的一个活动。



图 1

永一运用哪个感觉器官来进行上面的活动？

- A 眼睛
- B 皮肤
- C 耳朵

2. 我们用舌头来确认物体的什么特征？

- A 大小
- B 味道
- C 声音

3. 图 2 显示一个情况。



图 2

小孩的哪个感觉器官发挥了官能？

- A 鼻子
- B 眼睛
- C 舌头

4. 哪两个感觉器官可以确认物体的形状？

- A 舌头和鼻子
- B 耳朵和眼睛
- C 眼睛和皮肤

5. 图 3 显示两杯饮料。



图 3

哪个感觉器官可以用来辨别以上两种物体的特征？

- A 耳朵
- B 皮肤
- C 鼻子

6. 哪项搭配是正确的？

	身体部位	官能
A	皮肤	触觉
B	鼻子	味觉
C	耳朵	嗅觉

7. 图 4 显示一个切开一半的鲜橙。

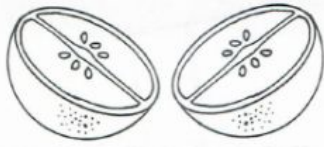


图 4

我们可通过什么感觉器官来辨别鲜橙是甜的或是酸的？

A



B



C



8. 晓云发现自己看不清楚白板上的字，她需要哪种工具来解决这个问题？

A



B



C



9. 图中哪个小孩有保护自己的感觉器官？

A



B



C



10. 图 5 显示一个紧急情况。



图 5

如果图 5 的小男孩失去听觉，预测将会发生什么事？

A 小男孩快步向前跑

B 小男孩马上躲到了一旁

C 小男孩被手推车撞倒了

B 回答以下问题。

1. 图 1 显示一名女孩的感觉器官。
(a) 在 (i) 和 (ii) 填写正确的答案。




图 1

- (b) 当图 1 的女孩在辨别以下物体的特征时，要用到哪种官能？画线连一连。

i. 肥皂的气味	听觉
ii. 青蛙的叫声	触觉
iii. 面包的软硬	嗅觉

- (c) 根据 (b)ii 的答案，我们还能用其他感觉器官来辨别青蛙的叫声吗？在空格里画 ✓。

能 不能

写出你的理由。

2. 图 2 显示正乐的一个坏习惯。




图 2

(a) 正乐的坏习惯会给哪个感觉器官造成伤害? 画 ✓。

耳朵 眼睛

(b) 长期下去, 正乐的坏习惯会带来什么后果? 画 ✓。



(c) 根据 2(a) 的答案, 哪项是保护这个感觉器官的方法? 画 ✓。

戴上手套玩手机

不躺着玩手机