

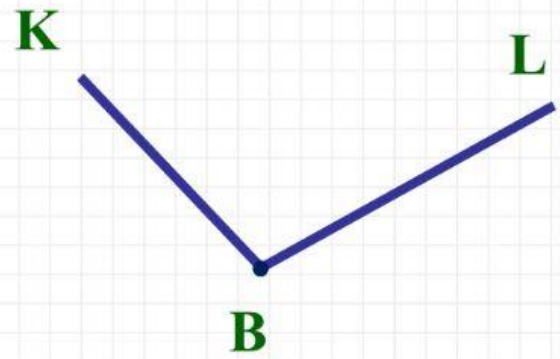
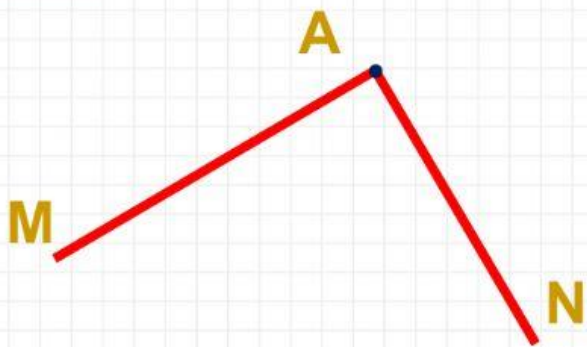
Tên: Lớp:.....

Toán

Thực hành nhận biết và
vẽ góc vuông bằng Ê ke



Bài 1:



Đây là góc

Đây là góc

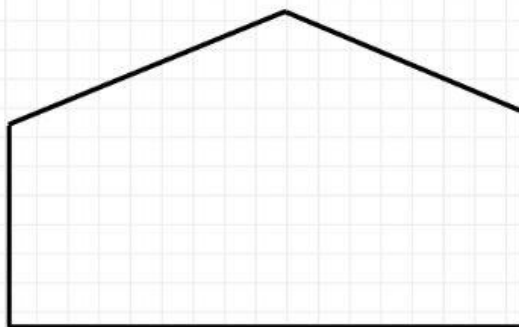
Đỉnh ; Cạnh AM,

Đỉnh ; Cạnh,

Bài 2: Dùng ê ke kiểm tra trong mỗi hình sau có mấy góc vuông:




Có góc vuông




Có góc vuông

Hình nào là góc vuông?



Hình 1

Đây là góc



Hình 2

Đây là góc



Hình 3

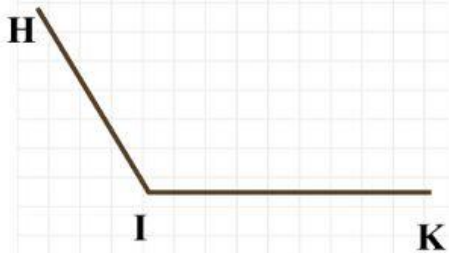
Đây là góc



Hình 4

Đây là góc

Hình bên dưới là hình có.....



A. Góc vuông: Đỉnh I; Cạnh IH, IK

B. Góc không vuông: Đỉnh H, Cạnh IH, IK

C. Góc không vuông: Đỉnh I, Cạnh IH, IK