

Recuerda

EL RELOJ



1 hora = 60 minutos

media hora = 30 minutos

un cuarto de hora = 15 minutos

3 cuartos de hora = 45 minutos

LAS HORAS

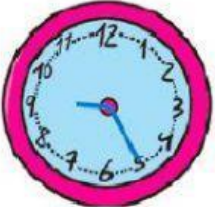
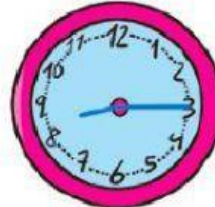
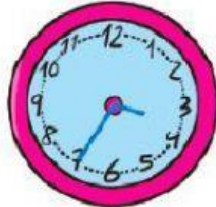


Los minutos



Elige el reloj correcto en cada caso

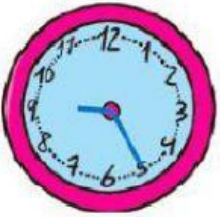
¿Qué reloj está marcando las ocho y cuarto?



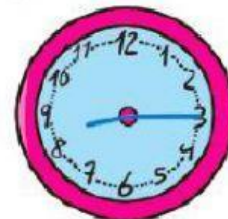
¿Qué reloj está marcando las seis menos veinte?



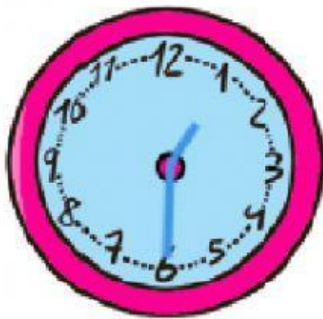
¿Qué reloj está marcando las nueve y veinticinco?



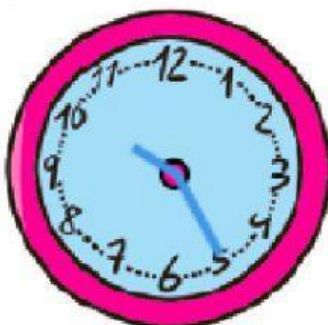
¿Qué reloj está marcando las cuatro menos veinticinco?



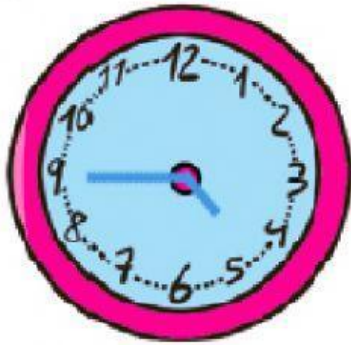
Selecciona cómo se lee la hora de
cada reloj



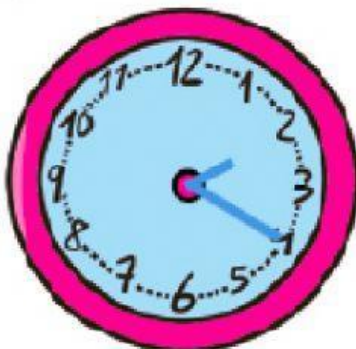
Es la



Son las



Son las



Son las

Completa la hora en los relojes digitales

Si son las 13:45 horas, ¿qué hora será dentro de tres cuartos de hora?

Serán las : horas.

Escribe las siguientes horas: Rellena los espacios en blanco.

Las 2 y diez de la tarde: :

La 1 y media de la mañana: :

Las 8 menos veinticinco de la tarde: :

Una película empieza a las 19:30 y dura 90 min. ¿A qué hora termina?

Termina a las : .

Escribe las siguientes horas:

Las 7 menos diez de la tarde: :

Las doce de la noche: :

Las 4 menos cuarto de la mañana: :

El autobús de la línea 1 pasa cada 8 minutos a partir de las 8 de la mañana. Observa la hora a la que llega Susana a la parada. ¿Cuánto tendrá que esperar?



8 min

4 min

10 min

2 min

Matemáticas 4º de primaria
Profesora: Marta Santamaría