



UNIDAD EDUCATIVA MILITAR PARTICULAR

"16 DE JUNIO"

PRACTICAS DE MATEMÁTICA

NOMBRE: _____


FECHA: _____

GRADO: _____

PARALELO: _____

MEDIDAS NO CONVENCIONALES DE MASA

• Observa y completa




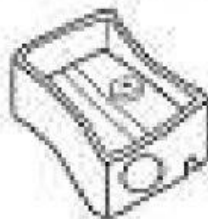
La sandía pesa _____ kg



Las patatas pesan _____ kg

ORDENA DE MENOR A MAYOR LOS OBJETOS SEGÚN SU PESO:

Ordena de menor a mayor los objetos según su peso:





UNIDAD EDUCATIVA MILITAR PARTICULAR

"16 DE JUNIO"

Observa las imágenes y de acuerdo a su masa,
une cada una con su peso






25 kg

1 kg

2 a 5 kg

250 g

SELECCIONAR LO QUE PESA MENOS.





UNIDAD EDUCATIVA MILITAR PARTICULAR

"16 DE JUNIO"



PESADO

LIVIANO

--	--

DOCENTE: LCDA. JENNY VELEPUCHA