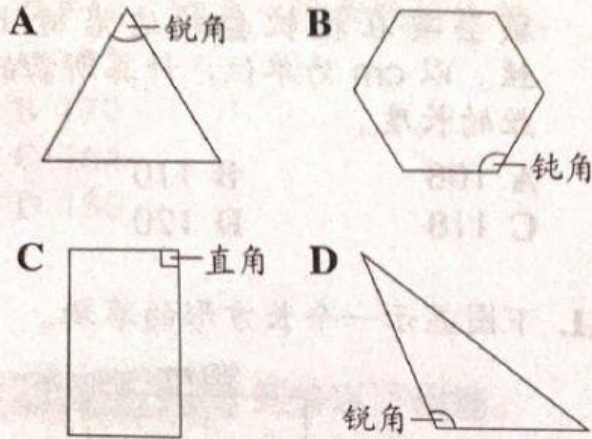


**UPSR 试卷一** 圈出正确的答案。

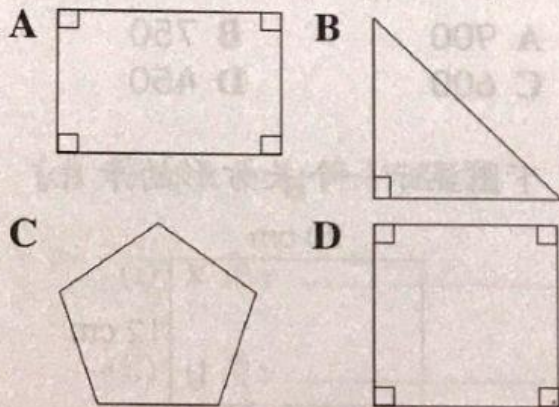
页 192-193 | 认识角 | 6.1.1 | TP1

1. 以下哪项标示的角是不正确的？



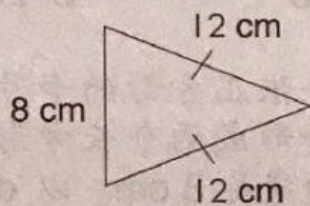
页 194-195 | 平行线和垂直线 | 6.2.1, 6.2.2 | TP1, 2

2. 以下哪个图形里没有垂直线？



页 196-198 | 周长 | 6.3.1 | TP2, 3


3. 下图显示一个三角形。



以 cm 为单位，计算三角形的周长。

- A 30
- B 32
- C 34
- D 36

4. 下图显示一个长方形。

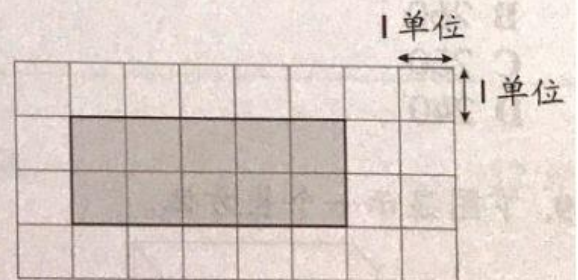


长方形的周长是 26 cm。以 cm 为单位，计算 PQ 的长度。

- A 10
- B 9
- C 8
- D 7

页 199-204 | 面积 | 6.3.2 | TP2, 3

5. 下图是由一些大小相同的正方形组成。



涂黑部分的面积是多少平方单位？

- A 5
- B 10
- C 20
- D 40