



KELOMPOK KERJA GURU (KKG) KECAMATAN SAMARINDA UTARA

PENILAIAN AKHIR SEMESTER GANJIL TINGKAT SD TAHUN PELAJARAN 2020/2021

Muatan Pelajaran : Tema 3 (Benda di Sekitarku)

Hari, Tanggal :




Kelas : 3 (Tiga)

Waktu : 90 menit

Nama :

Kerjakan soal-soal di bawah ini dengan jawaban yang tepat dan benar!

PPKn 3.1

- Pembahasan bersama dengan maksud mencapai keputusan atas penyelesaian disebut
 - kerja sama
 - musyawarah
 - gotong royong
- Lambang sila kelima pancasila adalah
 - 
 - 
 - 
- Tujuan diadakan musyawarah adalah untuk mendapatkan
 - keputusan yang terbaik
 - banyak uang
 - banyak teman
- Nilai yang harus tercermin saat musyawarah adalah
 - keadilan dan kebersamaan
 - kebersamaan dan kekuasaan
 - kekuasaan dan pemaksaan kehendak
- Sikap yang seharusnya dilaksanakan saat musyawarah adalah
 - memaksakan pendapat kepada orang lain
 - memarahi teman yang tidak mau menerima pendapat
 - menerima perbedaan pendapat dengan lapang dada

PPKn 3.3

- Di keluarga, yang berperan sebagai kepala keluarga adalah
 - ibu
 - ayah
 - kakek

PPKn 3.4

- Berikut ini yang merupakan contoh sikap bersatu dalam bekerja sama adalah

a.



b.



c.



Bahasa Indonesia KD 3.1

8. Dibawah ini yang termasuk benda hidup adalah
- buku, tebu dan pisang
 - meja, padi dan apel
 - jambu, apel dan kambing
9. Minyak dan bensin merupakan contoh benda
- keras
 - padat
 - cair
10. Perubahan wujud yang terjadi pada air saat mendidih di atas kompor di sebut
- menguap
 - membeku
 - mengembun

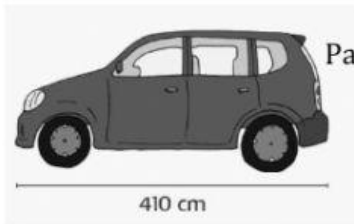
Matematika KD 3.7

11. Satuan yang digunakan dalam penggaris adalah
- m
 - cm
 - mm
12. Gambar alat dibawah ini, berfungsi untuk mengukur
- besar benda
 - panjang benda
 - lingkaran benda



13. Alat untuk mengukur benda yang cukup panjang seperti panjang halaman rumah, panjang sawah, panjang kelas dan panjang rumah adalah
- meteran rol
 - meteran pita
 - meteran saku

14. Panjang mobil mainan tersebut adalah



- 410 m
- 410 cm
- 410 mm

15. Lani pergi kepasar bersama ibunya, Lani membeli 2 kg mangga gadung, dan 500 gram anggur. Berat semua belanjaan Lani adalah gram
- 250 gram
 - 1250 gram
 - 2500 gram
16. 2 jam 30 menit = menit
- 50 menit
 - 60 menit
 - 90 menit

Perhatikan gambar dibawah ini !



17. Berapa ketinggian pesawat A dalam satuan km
- 3 km
 - 30 km
 - 300 km

SBdP KD 3.2

18. Berikut ini yang merupakan alat musik ritmis adalah

a.



b.



c.



19. Tamborin, gendang, triangle, drum, dan tifa adalah contoh alat musik
- perkusi
 - ritmis
 - melodi

20. Alat musik di bawah ini dimainkan dengan cara



- ditiup
- dipetik
- dipukul

SBdP KD 3.1

21. Gambar yang dibuat dengan memadukan dan menggabungkan titik, garis, bidang, dan warna disebut gambar
- Ornament
 - dekoratif
 - bidang
22. Contoh gambar dekoratif dua dimensi adalah
- guci
 - patung
 - kain batik
23. Warna yang dihasilkan dari penggabungan warna merah dan kuning adalah
- oranye
 - hijau
 - cokelat

SBdP KD 3.4

24. Bahan yang digunakan untuk menempelkan daun kering adalah
- a. lem
 - b. gunting
 - c. penggaris
25. Karya seni yang dibuat dengan teknik menempelkan adalah contoh karya seni
- a. menggambar
 - b. mozaik
 - c. melukis