



**KELOMPOK KERJA GURU (KKG)
KECAMATAN SAMARINDA UTARA**

**PENILAIAN AKHIR SEMESTER GANJIL TINGKAT SD
TAHUN PELAJARAN 2020/2021**

Muatan Pelajaran : Tema 1 (Pertumbuhan dan Perkembangan Makhluk Hidup) Hari, Tanggal :
Waktu : 90 menit
Kelas : 3 (Tiga) Nama :

Kerjakan soal-soal di bawah ini dengan jawaban yang tepat dan benar!

PPKn KD 3.1

- Berikut yang termasuk bentuk syukur terhadap karunia Tuhan adalah
 - berdoa sebelum makan
 - malas beribadah
 - melanggar aturan
- Tindakan pada gambar mencerminkan sila ke pancasila



- 1
- 2
- 3

PPKn KD 3.3

- Keragaman makhluk hidup harus disikapi dengan
 - acuh tak acuh
 - toleransi
 - pasrah
- Kerukunan antar umat beragama wajib
 - diabadikan
 - disimpan
 - dijaga

PPKn KD 3.4

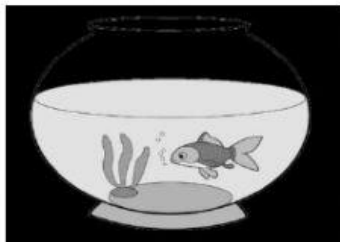
- Bunyi sila yang dilambangkan dengan gambar di bawah ini adalah



- Ketuhanan yang Maha Esa
- Kemanusiaan yang Adil dan Beradab
- Persatuan Indonesia

Bahasa Indonesia KD 3.4

6. Perhatikan gambar berikut !



Ikan bernapas dengan

- a. paru – paru
- b. insang
- c. trakea

7. Perhatikan gambar di bawah ini!



Tumbuhan putri malu jika daunnya disentuh akan

- a. malu –malu
- b. menutup
- c. biasa saja

8. Cara merawat hewan dengan benar , yaitu

- a. memberikan makanan hewan yang tidak sesuai
- b. membiarkan kandang hewan peliharaan kotor
- c. mengobati hewan peliharaan yang sakit


9. Manusia bernapas menggunakan

- a. insang
- b. paru paru
- c. jantung


10. perhatikan gambar dibawah !



I



II



III

Hewan yang berkembang biak dengan cara bertelur, ditunjukkan oleh gambar nomor

- a. I dan II
- b. II dan III
- c. II dan I

11. Tumbuhan pisang berkembang biak dengan

- a. tunas
- b. umbi batang
- c. akar



Matematika KD 3.1

12. Lambang bilangan 1.215 di baca
- seribu dua ratus lima
 - seribu dua ratus lima belas
 - seribu dua ratus limabelas ribu
13. Nilai tempat 7 pada bilangan 4.751 adalah
- satuan
 - puluhan
 - ratusan

14. Perhatikan baris bilangan berikut !

3.200, 3.400, , 3.800, , 4.200

Angka yang tepat untuk mengisi titik - titik tersebut adalah

- 3.600 dan 4.000
 - 3.500 dan 4.900
 - 3.000 dan 4.000
15. Perhatikan operasi penjumlahan berikut .
- 8 + 8 + 8 + 8 + 8**
- Bentuk perkalian dari penjumlahan tersebut adalah
- 5 x 8
 - 9 x 5
 - 9 + 5
16. Hasil dari perkalian 14×5 adalah
- 60
 - 83
 - 70

17. Hasil dari penjumlahan dibawah ini adalah

$$\begin{array}{r} 345 \\ 457 + \\ \hline \dots \end{array}$$

- 702
- 802
- 707

18. Hasil dari pengurangan dibawah ini adalah

$$3.547 - 1.220 = \dots$$

- 2327
- 1327
- 2320

SBdP KD 3.1

19. Menghias suatu permukaan agar lebih indah disebut
- melukis
 - dekoratif
 - imajinatif
20. Warna yang digunakan untuk membuat motif daun adalah warna
- merah
 - kuning
 - hijau

SBdP KD 3.2

21. Tanda berbentuk bilangan pecahan bersusun yang menunjukkan birama yang digunakan pada sebuah lagu disebut
- irama
 - tempo
 - tanda birama
22. Agar menarik gerakan tari harus
- sesuai iringan musik
 - semaunya
 - tak beraturan

SBdP KD 3.3

23. Unsur paling utama dalam tari adalah
- musik
 - gerak
 - tokoh
24. Menirukan gerakan kelinci dengan cara
- terbang
 - melompat
 - mengayunkan tangan

SBdP KD 3.4

25. Mozaik adalah karya seni yang dibuat dengan menggunakan teknik
- potong
 - pahat
 - tempel