

Latihan Penilaian Akhir Semester Ganjil Tema 3

Muatan PPKn

Silanglah (X) pada jawaban yang benar!

1. Lambang sila ketiga Pancasila adalah

a.



b.




c.



2. Contoh kegiatan siang hari yang sesuai dengan aturan di rumah adalah

a.



b.



c.



3. Berikut yang merupakan cara menyambut orang tua pulang kerja adalah

- a. menangis meminta mainan
- b. menyambut dengan gembira
- c. marah-marah dengan ayah

4. Kegiatan di malam hari sesuai aturan yang dilakukan sebelum tidur adalah

a.



b.



c.



Muatan Bahasa Indonesia

Silanglah (X) pada jawaban yang benar!

5. Gambar di samping menunjukkan suasana



- a. pagi hari
- b. sore hari
- c. malam hari

6. a r g h o a l a

Susunan huruf-huruf di atas agar menjadi sebuah kata yang tepat adalah

- a. olahraga b. ragaolah c. olahbadan

7. sekolah - Cayden - siang - hari - pulang - pada

Susunan kata-kata di atas menjai kalimat yang benar adalah

- a. Cayden pulang sekolah siang hari pada.
b. Cayden pada siang hari pulang sekolah.
c. Cayden pulang sekolah pada siang hari.

8. Berikut yang merupakan ciri-ciri dari sore hari adalah

- a. matahari mulai terbit
b. matahari tampak ada di atas kepala
c. matahari mulai terbenam

9. Kegiatan di malam hari yang dapat dilakukan bersama keluarga di malam hari adalah



10. Siti : Aduh, kakiku sakit sekali.
Dayu : Kamu kenapa Siti?
Siti : Aku terjatuh dari tangga Dayu.
Dayu : Mari aku bantu Siti.
Siti : _____, Dayu.

Kata yang tepat untuk melengkapi percakapan di atas adalah

- a. maaf b. tolong c. terima kasih




Kalimat permintaan tolong yang sesuai pada gambar di samping adalah


- a. Jesselyn, tolong ambilkan ibu minum di atas meja ini!
b. Jessica, tolong belikan telur di warung!
c. Julia, tolong bantu ibu membuat kue!

Muatan Matematika


Silanglah (X) pada jawaban yang benar!

12.  Banyak apel pada gambar di samping adalah . . .


- a. 11 b. 12 c. 13

13.  Urutan bilangan berikut dari yang terbesar adalah . . .


- a. 11, 12, 13, 15 b. 15, 13, 12, 11 c. 15, 13, 11, 12

14.  Bentuk panjang dari lambang bilangan di samping adalah . . .

- a. 1 puluhan + 7 satuan
b. 7 satuan + 1 satuan
c. 1 satuan + 7 satuan

15.  Tanda perbandingan yang tepat untuk mengisi titik-titik di samping adalah . . .

- a. < b. > c. =

16. 

Jumlah bintang di atas adalah . . .

- a. 10 b. 11 c. 12

Muatan SBdP

Silanglah (X) pada jawaban yang benar!

17. Kolase adalah cara menghias karya seni dengan cara . . .

- a. mewarnai b. menjilplak c. menempel

18. Tanda garis (—) untuk menjelaskan bunyi . . .

- a. pendek b. panjang c. Sedang

19.




Gerak kupu-kupu terbang merupakan contoh gerakan

- a. cepat b. sedang c. lambat

20. Bahan alam dari tumbuhan yang dimanfaatkan untuk membuat kerajinan adalah

a.



b.



c.

