

Nama : Muhammad Dimas Pananograhan Dirgantara

NIM : 1852000016

Kelas : 7 A

Dosen: Dr. Meidawati Suswandari, M.Pd

### KISI-KISI

Kelas : 4

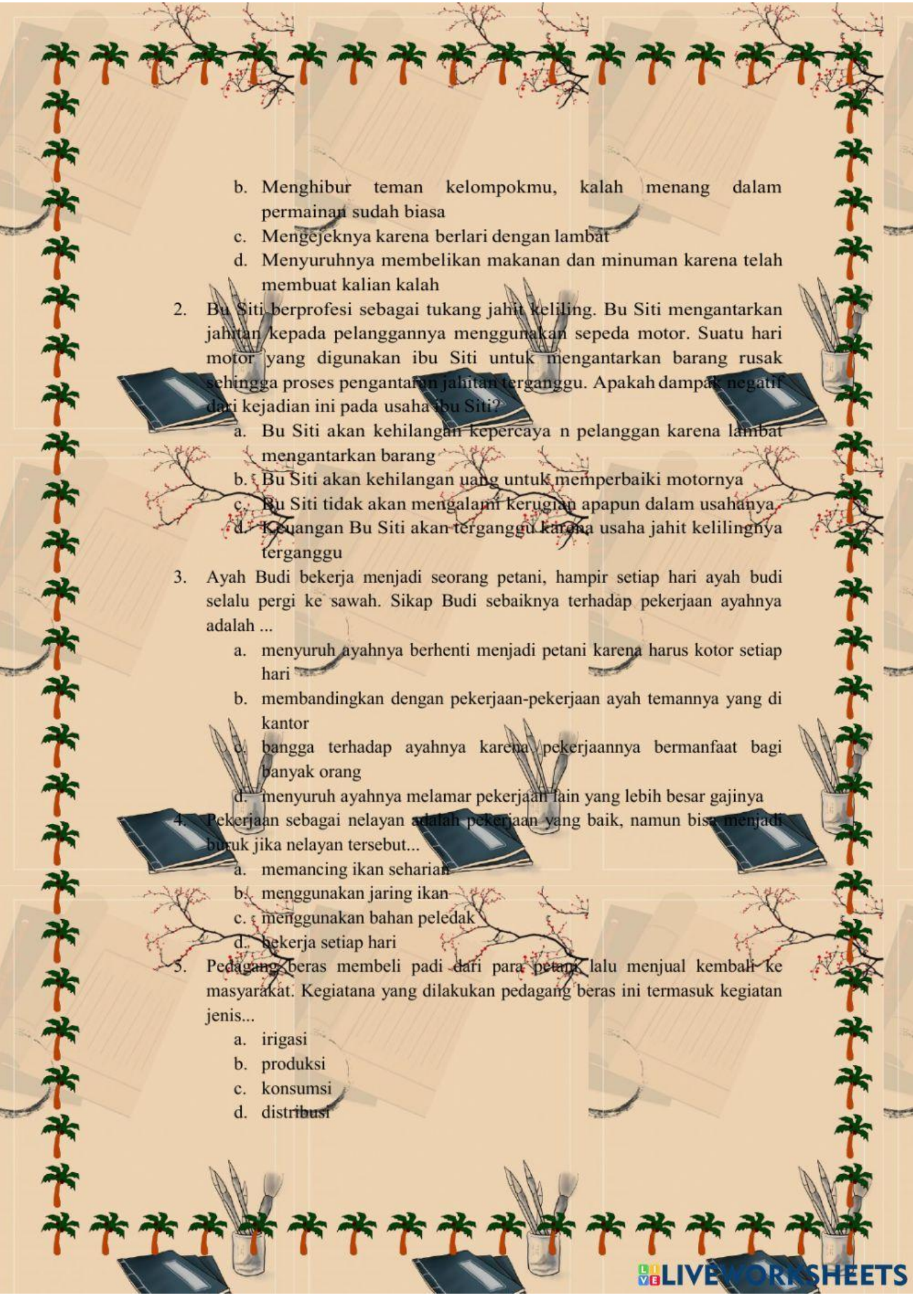









Tema 4: Berbagai Pekerjaan

Mupel	Kompetensi Dasar	IPK	Materi Pokok	Level Kognitif	Bentuk Soal	Nomor Soal
PPKn	4.3 Menjelaskan makna keberagaman karakteristik individu di lingkungan sekitar.	4.3.1 Menyebutkan contoh karakteristik individu di sekolah	Makna keberagaman karakteristik individu di kehidupan sehari-hari.	C4	Pilihan ganda	1
		4.3.2 Menyebutkan contoh karakteristik individu di masyarakat.				2 3
IPS	3.3 Mengidentifikasi kegiatan ekonomi dan hubungannya dengan berbagai bidang pekerjaan serta kehidupan sosial dan budaya di lingkungan sekitar sampai provinsi.	3.3.1 Menunjukkan hubungan antara kegiatan ekonomi dengan berbagai bidang pekerjaan di lingkungan sekitar sampai provinsi.	Kegiatan ekonomi	C5	Pilihan Ganda	4 5
					Isian singkat	6 7 8 9 10

1. Guru olahraga memberikan tes lari marathon kepada siswa di kelasmu. Semua siswa dibagi menjadi beberapa kelompok yang terdiri dari 5 orang perkelompok. Kamu dan teman sekelompokmu kalah karena ada seorang siswa yang lambat dalam berlari. Teman-temanmu yang lain merasa kecewa karena kalah. Tindakan yang seharusnya kamu lakukan sebagai teman adalah....

a. Memarahi temanmu karena telah membuat kalian kalah



- 
- 
- 
- 
- 
- 
- 
- 
- 
- 
- b. Menghibur teman kelompokmu, kalah menang dalam permainan sudah biasa
- c. Mengejeknya karena berlari dengan lambat
- d. Menyuruhnya membelikan makanan dan minuman karena telah membuat kalian kalah
2. Bu Siti berprofesi sebagai tukang jahit keliling. Bu Siti mengantarkan jahitan kepada pelanggannya menggunakan sepeda motor. Suatu hari motor yang digunakan ibu Siti untuk mengantarkan barang rusak sehingga proses pengantaran jahitan terganggu. Apakah dampak negatif dari kejadian ini pada usaha ibu Siti?
- a. Bu Siti akan kehilangan kepercayaan pelanggan karena lambat mengantarkan barang
- b. Bu Siti akan kehilangan uang untuk memperbaiki motornya
- c. Bu Siti tidak akan mengalami kerugian apapun dalam usahanya
- d. Keuangan Bu Siti akan terganggu karena usaha jahit kelilingnya terganggu
3. Ayah Budi bekerja menjadi seorang petani, hampir setiap hari ayah budi selalu pergi ke sawah. Sikap Budi sebaiknya terhadap pekerjaan ayahnya adalah ...
- a. menyuruh ayahnya berhenti menjadi petani karena harus kotor setiap hari
- b. membandingkan dengan pekerjaan-pekerjaan ayah temannya yang di kantor
- c. bangga terhadap ayahnya karena pekerjaannya bermanfaat bagi banyak orang
- d. menyuruh ayahnya melamar pekerjaan lain yang lebih besar gajinya
4. Pekerjaan sebagai nelayan adalah pekerjaan yang baik, namun bisa menjadi buruk jika nelayan tersebut...
- a. memancing ikan seharian
- b. menggunakan jaring ikan
- c. menggunakan bahan peledak
- d. bekerja setiap hari
5. Pedagang beras membeli padi dari para petani lalu menjual kembali ke masyarakat. Kegiatan yang dilakukan pedagang beras ini termasuk kegiatan jenis...
- a. irigasi
- b. produksi
- c. konsumsi
- d. distribusi





6. Berdasarkan gambar di atas, analisislah 2 jenis pekerjaan yang menghasilkan barang!
7. Berdasarkan gambar di atas, analisislah 2 jenis pekerjaan yang menghasilkan jasa!

Jenis kebutuhan manusia ada primer, sekunder dan tersier yaitu :

- 1) perhiasan
- 2) pakaian
- 3) kendaraan pribadi
- 4) makan
- 5) liburan ke luar negeri
- 6) kulkas
- 7) tempat tinggal
- 8) jajan di restoran mewah
- 9) TV

8. Jenis kebutuhan utama yang muncul secara naluriah agar manusia dapat bertahan hidup.
9. Jenis kebutuhan yang dapat ditunda pemenuhannya setelah kebutuhan primer terpenuhi.
10. Jenis kebutuhan untuk memenuhinya dilakukan setelah kebutuhan primer dan sekunder terpenuhi.