





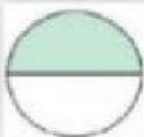


ACTIVIDAD SOBRE FRACCIONES

1- OBSERVA LA GRÁFICA Y ESCRIBE EL NÚMERO Y SU NOMBRE

			
<div style="border: 1px solid black; width: 100px; height: 30px; margin: 0 auto;"></div>	<div style="border: 1px solid black; width: 100px; height: 30px; margin: 0 auto;"></div>	<div style="border: 1px solid black; width: 100px; height: 30px; margin: 0 auto;"></div>	<div style="border: 1px solid black; width: 100px; height: 30px; margin: 0 auto;"></div>

2- MARCA LA REPRESENTACIÓN CORRECTA

	<div style="border: 1px solid black; padding: 5px; display: inline-block;">3 3</div>	<div style="border: 1px solid black; padding: 5px; display: inline-block;">2 3</div>	<div style="border: 1px solid black; padding: 5px; display: inline-block;">2 2</div>
	<div style="border: 1px solid black; padding: 5px; display: inline-block;">1 3</div>	<div style="border: 1px solid black; padding: 5px; display: inline-block;">1 2</div>	<div style="border: 1px solid black; padding: 5px; display: inline-block;">3 3</div>
	<div style="border: 1px solid black; padding: 5px; display: inline-block;">1 1</div>	<div style="border: 1px solid black; padding: 5px; display: inline-block;">1 3</div>	<div style="border: 1px solid black; padding: 5px; display: inline-block;">1 2</div>

3- LEE Y ESCRIBE LA REPRESENTACIÓN

Tres octavos



Un tercio



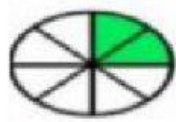


Cuatro novenos



Tres séptimos



4- ESCRIBE EL NOMBRE DE LAS GRÁFICAS

5- MARCA LA REPRESENTACIÓN CORRECTA

	<div style="border: 1px solid black; padding: 5px; display: inline-block;">4 12</div>	
	<div style="border: 1px solid black; padding: 5px; display: inline-block;">2 4</div>	
	<div style="border: 1px solid black; padding: 5px; display: inline-block;">4 6</div>	