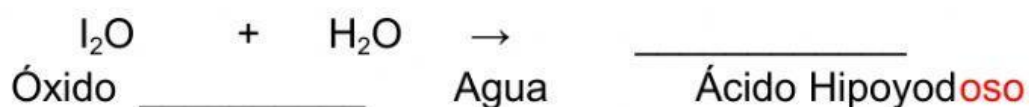
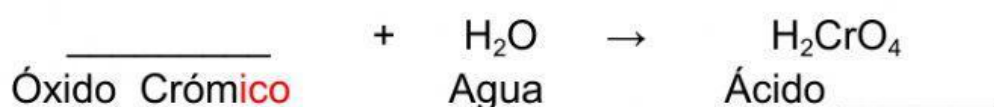
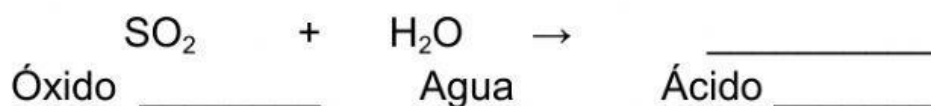
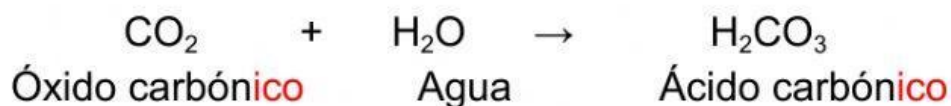


ÁCIDOS OXÁCIDOS

1. Completa los cuadros colocando los ácidos que se forman a partir de los óxidos ácidos.



2. Formula los siguientes ácidos oxácidos que se formarán con los siguientes elementos y sus respectivos número de oxidación:

Cl⁺³

B⁺³

Te⁺⁴

3. Completa el siguiente cuadro:

Ácidos	Tradicional	Stck	Sistemática
HClO			
H ₂ SO ₂			
HBrO ₃			
H ₂ CO ₂			