
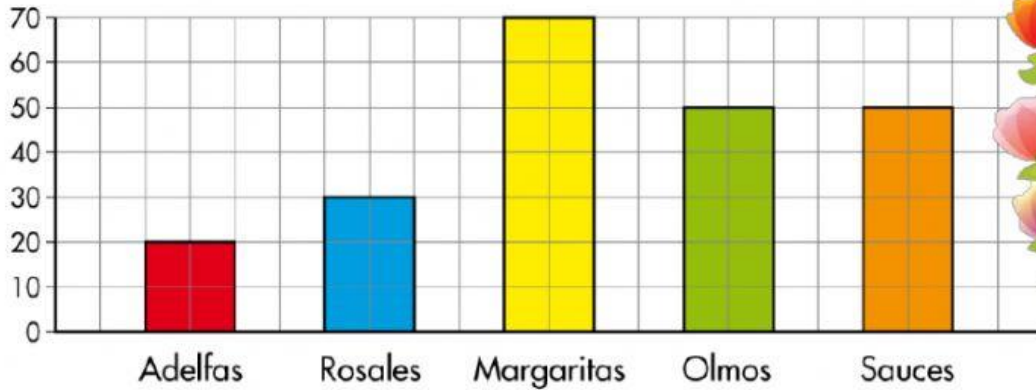


Estadística

Interpretación de Graficas

1) El jardinero del parque ha regado estas plantas:



¿Cuántas plantas hay de cada clase?

sauces

olmos

margaritas


rosales

adelfas

2) ¿Cuántas canicas tiene cada niño? Cuenta y completa la tabla.







David



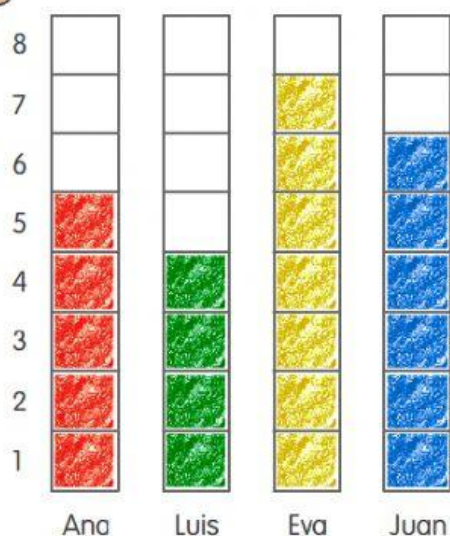
Ester



				
David				
Ester				

3)

Este gráfico representa el número de libros que ha leído cada niño este año. ¿Cuántos libros ha leído cada uno?



Ana ►

Luis ►

Eva ►

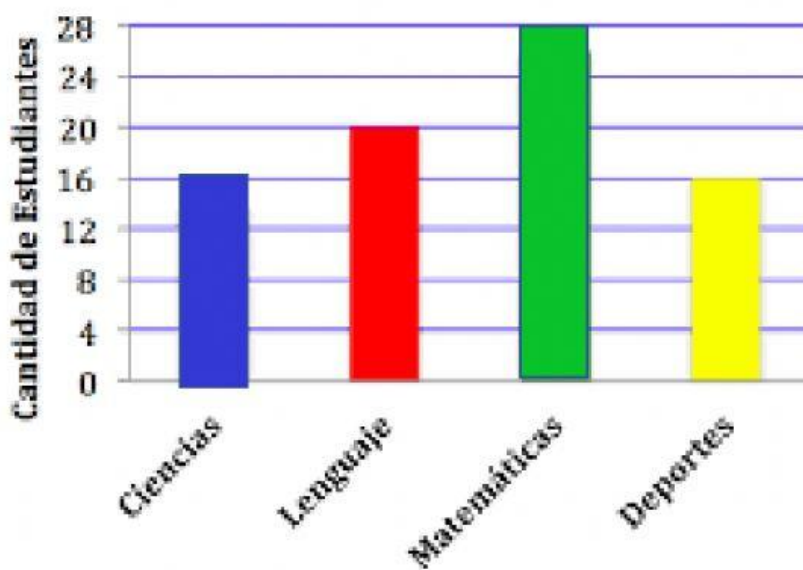
Juan ►



4)



Clase preferida de los alumnos de 2



Ciencias

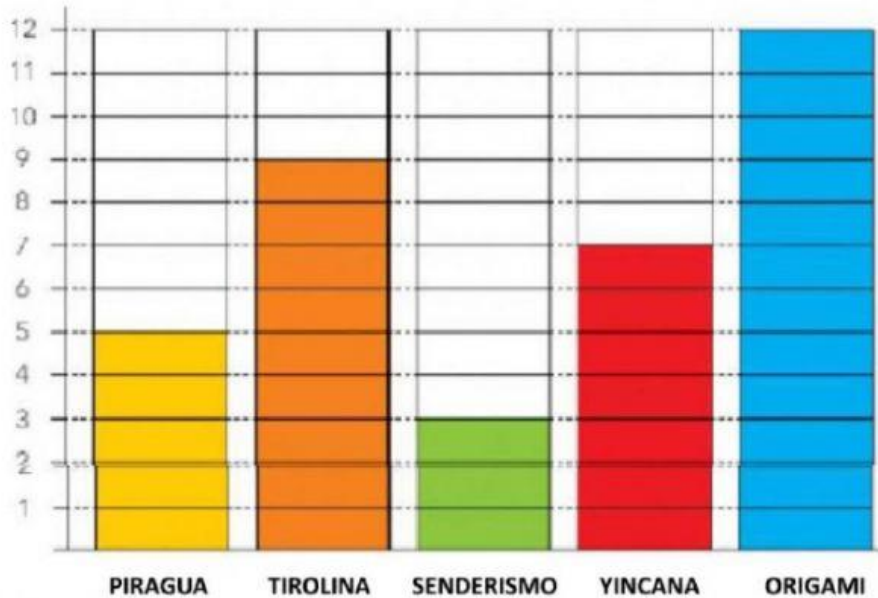
Lenguaje

Matemáticas

Deportes

5)

Marta ha ido a un campamento donde ha hecho montones de actividades y ha anotado en este gráfico las veces que ha hecho cada una.



1. ¿Cuántas actividades ha hecho Marta?

2. ¿Qué actividades ha realizado menos veces?

3. ¿Cuántas veces ha hecho piragua?

4. ¿Qué actividades realizo más?

Maestra Guillermina

