




# LAS CENTENAS

1. Une las cantidades iguales. Usa colores diferentes.

Doscientos veinte	•	•	Ciento veinte
402	•	•	300
677	•	•	
Ochocientos treinta y cinco	•	•	$6C + 7D + 7U$
	•	•	835
	•	•	Cuatrocientos dos

2. Completa los números que faltan en cada secuencia.

- a) 99 - \_\_\_\_ - \_\_\_\_ - 102 - \_\_\_\_ - \_\_\_\_ - 105
- b) 299 - \_\_\_\_ - \_\_\_\_ - \_\_\_\_ - 295 - \_\_\_\_ - \_\_\_\_
- c) 183 - \_\_\_\_ - 185 - \_\_\_\_ - 187 - \_\_\_\_ - 189

3. Escribe el signo  $>$ ,  $<$  o  $=$  según corresponda.

- a) 390 \_\_\_\_ 352
- b) 465 \_\_\_\_ 573
- c) 984 \_\_\_\_ 976
- d) 591 \_\_\_\_ 193