

# Mitad y tercera

**1** Dibuja y reparte 18 huesos entre los 3 perros, según la clave.

- Bobby recibe la mitad.
- Rabito recibe la tercera parte de lo que queda.
- Toby recibe el resto de los huesos.



Rabito



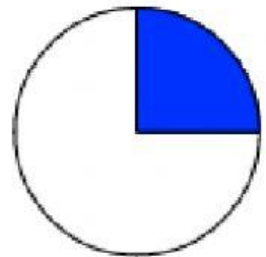
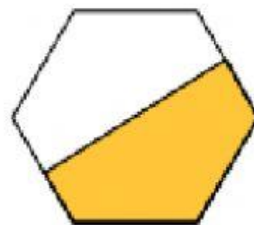
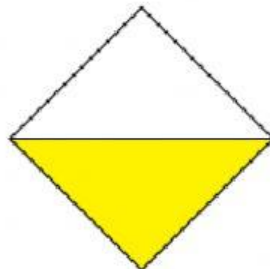
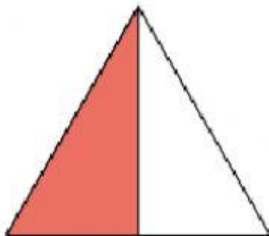
Toby



Bobby



**2** Marca las figuras que están pintadas a la mitad.



**3** Lee y resuelve.

- Rosa compró ayer 30 flores. Si hoy se marchitaron la mitad, ¿cuántas flores le quedan?

$$\square \div \square = \square$$



Le quedan \_\_\_\_\_.

- Lucía tiene 21 fotos. Si coloca la tercera parte en su marco, ¿cuántas fotos tienen marco?

$$\square \div \square = \square$$



\_\_\_\_\_ tienen marco.