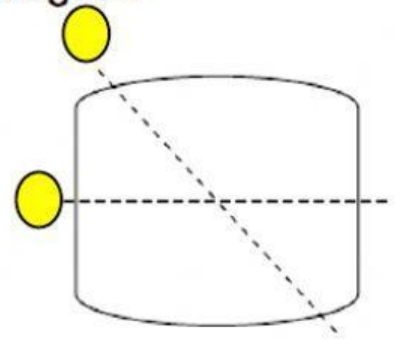
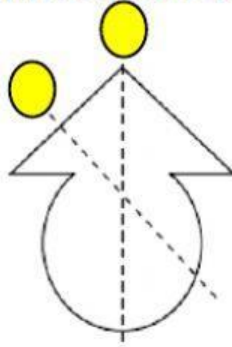
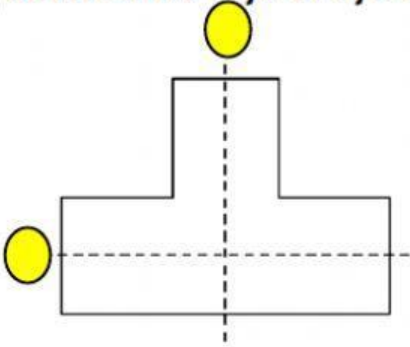


Eje de simetría

1 Delinea de rojo el eje de simetría correcto de cada figura.



2 Marca las figuras que tienen su eje de simetría correcto.

A

8

M

3

B

T

O

E

3 Copia el diseño y completa el dibujo del auto.

