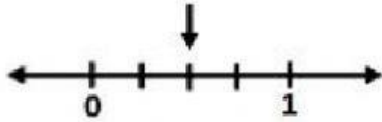
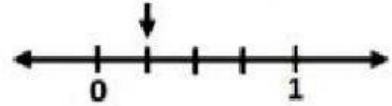


FRACCIONES EN LA RECTA NUMÉRICA

1.- Observa las siguientes rectas y escribe la fracción que indique el punto de la recta que señalan las flechas.




Fracción _____



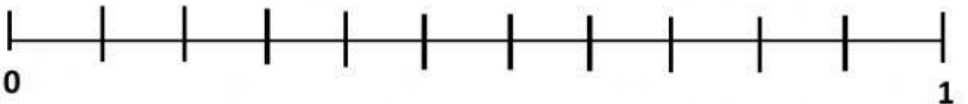
Fracción _____

2.- Arrastra cada fracción hacia el lugar que corresponda en la recta numérica.

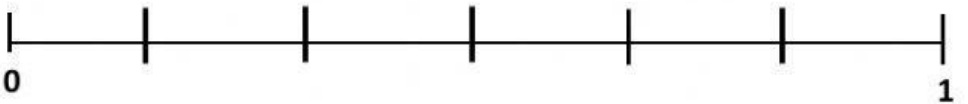
$$\frac{3}{7}$$



$$\frac{4}{5}$$



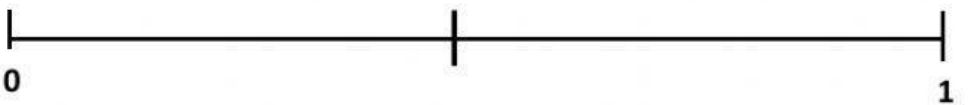
$$\frac{10}{11}$$



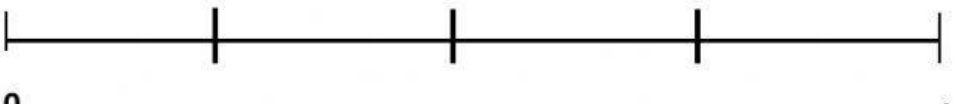
$$\frac{1}{2}$$



$$\frac{5}{6}$$



$$\frac{3}{4}$$



$$\frac{2}{3}$$

