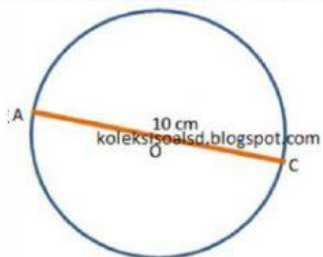


26. Perhatikan gambar di bawah ini!



Jika $\pi = 3,14$ maka keliling lingkaran adalah.....cm.

- A. 314 B. 31,4 C. 15,7 D. 3,14

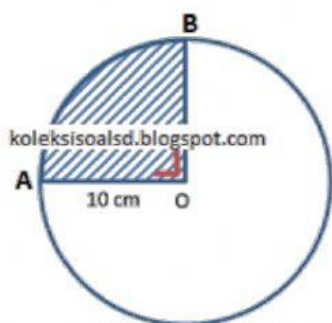
27. Sebuah kolam memiliki jari-jari 7 m. Berapakah luas kolam tersebut , jika ($\pi = \frac{22}{7}$)

- D. 11 B. 22 C. 38,5 D. 154

28. Sebuah taman berbentuk lingkaran dengan keliling 154 m. jika ($\pi = \frac{22}{7}$) Berapa diameter taman tersebut ?

Jawab : m

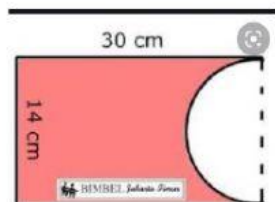
29. Perhatikan gambar lingkaran di bawah ini!



Berapakah luas juring AOB jika $\pi = 3,14$

Jawab : — x 3,14 x x =

30. Berapa luas bangun berikut ini



Jawab Luas I = x =

$$\text{Luas II} = \text{—} \times \frac{22}{7} \times \text{.....} \times \text{.....}$$

$$= \text{.....}$$

maka luas yang berwarna merah adalah

