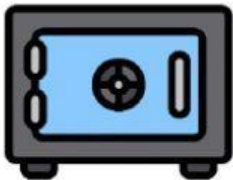
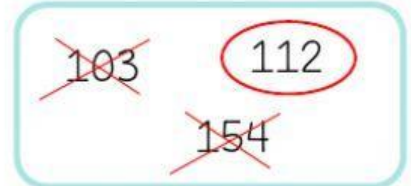




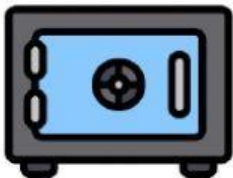

Descubre a partir de las pistas,
el código secreto de la caja fuerte.




- Es número par.
- Es mayor que 100.
- Es menor que 150



- La unidad es 5.
- Está entre 30 y 40.
- Es impar.



- La centena es 4.
- Es impar.
- La decena es 3.



- La centena es 7.
- La unidad es 2.
- La decena es 4.



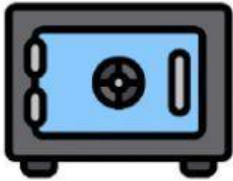


Descubre a partir de las pistas,
el código secreto de la caja fuerte.



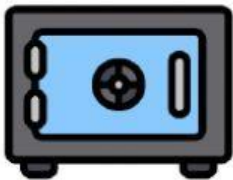
- Está entre 50 y 100.
- Es par.
- La decena es 9.

94 39
97



- La unidad es 6.
- Es par.
- La decena es 1.

136 416
142



- Es impar.
- La centena es 3.
- Es mayor de 300.

304 315
230



- Es mayor que 500.
- Es menor que 800.
- Es impar.

546 913
627



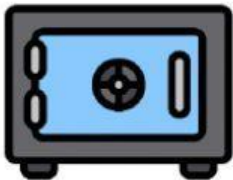


Descubre a partir de las pistas,
el código secreto de la caja fuerte.



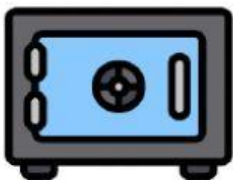
- La unidad es 5.
- La decena es 3.
- La centena es 8.

853 358
835



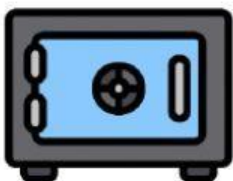
- Es par.
- Está entre 900 y 1000.
- La decena es 2.

925 928
824



- Es mayor que 250.
- Es menor que 300.
- Es par.

275 242
268



- La centena es 4.
- Es impar.
- La unidad es 1.

134 421
417