






Evaluación de Ciencias Naturales Diseño N°5 "Los Materiales"

I. Marca la alternativa correcta de cada afirmación. (10/___)

1. Los materiales naturales son aquellos que:

a)  Son elaboradas por un proceso químico	b)  Proviene de la naturaleza	c)  Son elaboradas por el hombre
--	--	--

2. Los materiales artificiales son aquellos que:

a)  Proviene de la naturaleza	b)  Son elaboradas por un proceso químico	c)  Son elaboradas por el hombre
--	--	--

3. Los materiales frágiles son aquellos que:

a)  Se doblan con facilidad	b)  Se rompen con facilidad	c)  Cuando se caen no se rompe
--	--	--

4. Un material flexible es aquel que puede:

a)  Se doblan con facilidad	b)  No se puede doblar	c)  No deja pasar el agua
--	---	---

5. Un material Impermeable es aquel que:

a)  Puede estirarse	b)  Se rompen con facilidad	c)  No deja pasar el agua
--	--	---

6. Un material Rígido es aquel que:

a)  Puede estirarse	b)  No deja pasar el agua	c)  No se puede doblar
--	--	--

7. Un material transparente es aquel que:

a)  No podemos ver a través de él	b)  Podemos ver a través de él	c)  No deja pasar el agua
--	---	---

8. ¿Cuál de estos objetos está construido con un material Permeable?

a)  Globo	b)  Gorro de lana	c)  Casa de madera
---	---	---

9. ¿Cuál de estos objetos está construido con un material opaco?

a)  Caja	b)  vaso	c)  Bol
---	---	---

10. ¿Cuál de estos objetos está fabricado con un material resistente?

a)  Candado	b)  vaso	c)  candado
--	---	---

II. Une con una línea según corresponda. (12/____)
¿De qué están hechos los siguientes objetos?



Madera



Metal



Lana



Tela



Vidrio



Plástico



Arrastra la imagen que concuerda con lo que le pasa a estos objetos al aplicarle una fuerza. (4/___)



Arrastra la imagen que corresponda



Cambia de color



Se quiebra



No pierde su forma



Cambia de tamaño