

El metro

Lee selecciona la respuesta correcta

¿Cuál mide más de un metro?

☐ ☐ ☐ ☐

¿Cuál mide menos de un metro?

☐ ☐ ☐ ☐

¿Cuál mide menos de un metro?

☐ ☐ ☐ ☐


¿Cuál mide más de un metro?

☐ ☐ ☐ ☐


Observa cada lápiz y escribe cuanto miden.



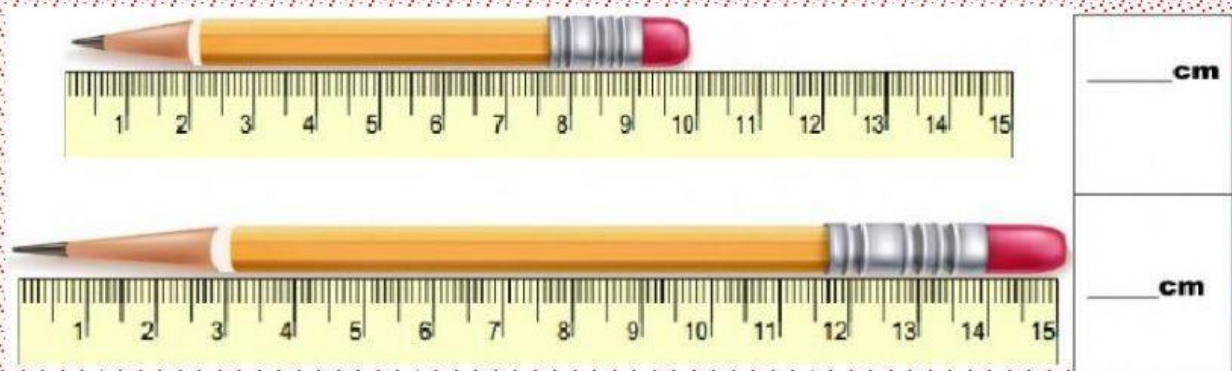
_____ cm



_____ cm



_____ cm



Ahora acomoda las siguientes medidas de mayor a menor.

8m

71m

86m

17m

49m

98m

--	--	--	--	--	--