



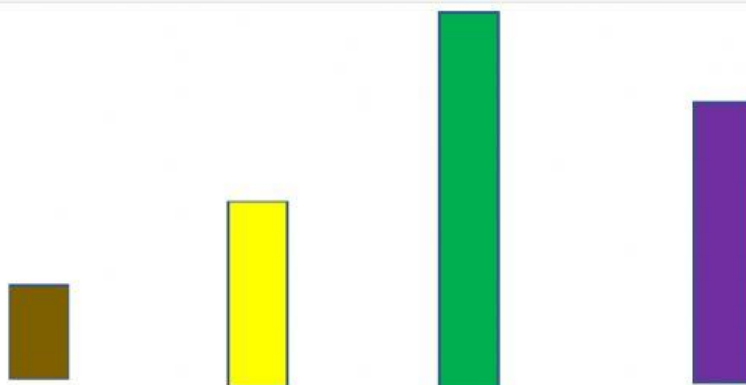
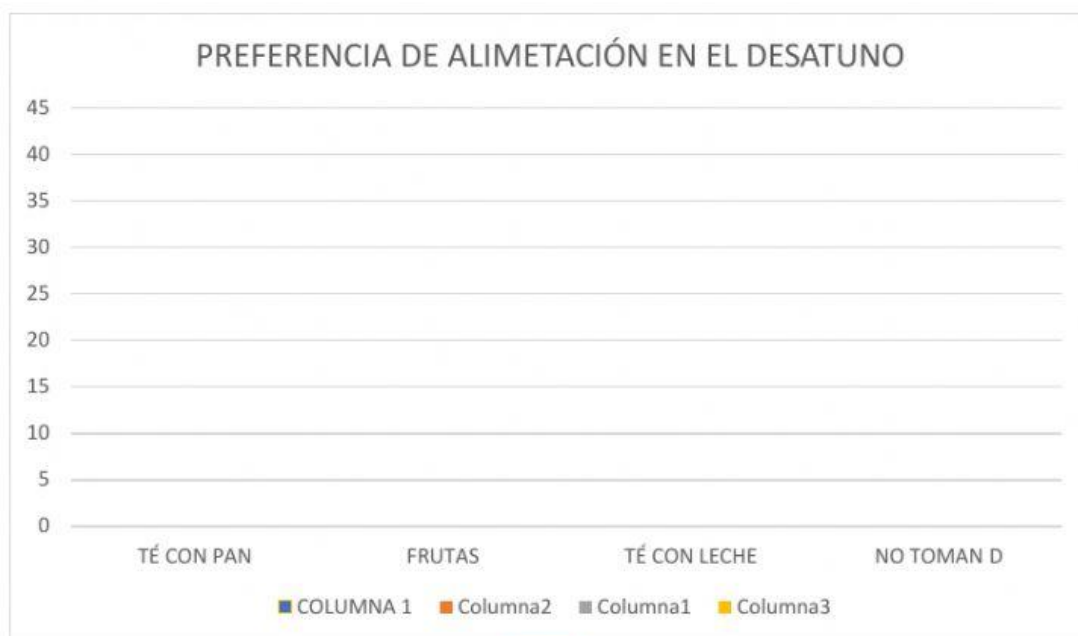
Evaluación de matemática

NOMBRE COMPLETO.....CURSO.....FECHA....../....../.....

1. Arrastra, según los datos a al grafico de barras.

Según los datos encuestados a una población de 100 mujeres, la preferencia de alimentación que les dan a sus hijos a la hora del desayuno son los siguientes:

- a) 20 mujeres prefieren dar a sus hijos, té con pan.
- b) 40 mujeres dan a sus hijos, frutas
- c) 30 mujeres das a sus hijos, leche con pan.
- d) 10 no toman desayuno.





Evaluación de matemática


2. Marca la respuesta correcta.

f) Juana y Marco cosechan las hortalizas que sembraron, comenzando por las zanahorias.



POBLACIÓN	MUESTRA	INDIVIDUO
Las hortalizas	Las hortalizas	Las zanahorias
Las zanahorias	Una zanahoria	Una zanahoria
Una zanahoria	Las zanahorias	Las hortalizas

e) Los habitantes de un barrio son convocados a una reunión de emergencia, a la cual solo logran asistir un tercio del total de habitantes.



POBLACIÓN	MUESTRA	INDIVIDUO
Los habitantes	Los habitantes	Los habitantes
Un tercio de habitantes	Un tercio de habitantes	Un tercio de habitantes
Un habitante	Un habitante	Un habitante