



LKPD

BIMBINGAN DAN KONSELING
SMP NEGERI 1 KEMRANJEN

NAMA :

KELAS:

NO ABSEN:

TEMA : MASA REMAJA DAN
PERUBAHANNYA

DARWANTI KOSASIH, S.Pd




SIMAK VIDEO BERIKUT INI




KERJAKAN SOAL DI BAWAH INI


1. Perhatikan ciri-ciri berikut :

- 1) Suara membesar 3) Kulit menjadi halus
2) Tumbuh jakun 4) Tumbuh kumis



Ciri kelamin sekunder yang tampak pada remaja laki-laki adalah nomor

- a. 1), 2), 3)
b. 1), 2), 4)
c. 2), 3), 4)
d. 1), 3), 4)
- 



2. Masa meniru, egois tinggi, dan selalu menarik perhatian, merupakan ciri-ciri dari masa

- a. Bayi
- b. Tua
- c. Anak
- d. Remaja



3. Ciri-ciri sekunder pada remaja perempuan adalah

- a. Tinggi badan bertambah
- b. Membesarnya pinggul
- c. Bertambah panjang rambut
- d. Kulit menjadi halus


4. Berikut ini merupakan tahapan perkembangan manusia,

- a. Masa subur, masa remaja, masa dewasa
- b. Masa prenatal, anak-anak, masa remaja
- c. Masa anak-anak, masa remaja, masa subur
- d. Masa remaja, masa dewasa, masa prenatal



5. Masa kanak-kanak berlangsung pada usia

6. Terjadinya menstruasi pada wanita dipicu oleh adanya hormon



7. Pasangkanlah dengan yg sesuai : hormon yang berpengaruh dengan perkembangan remaja

PEREMPUAN

LAKI-LAKI

TESTOSTERON

ESTROGEN

8. Di bawah ini merupakan sifat kelamin sekunder pada wanita, diantaranya

- a. Pinggul membesar
- b. Kelenjar susu membesar
- c. Ovarium menghasilkan ovum
- d. Tumbuh rambut di sekitar alat kelamin

Jika sudah selesai bisa klik **FINISH & PILIH VIA EMAIL** agar nilai kalian dapat dicek oleh guru dengan email : darwantikosasih09@guru.smp.belajar.id