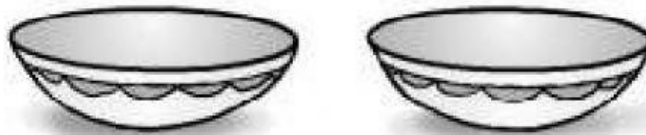



SEGUIMOS CON EL REPARTO Y DIVISIÓN

1. Realiza el reparto y completa la división.

❖ 10 manzanas en 2 fruteros.



$$\square : \square = \square$$

En cada frutero hay _____ manzanas.

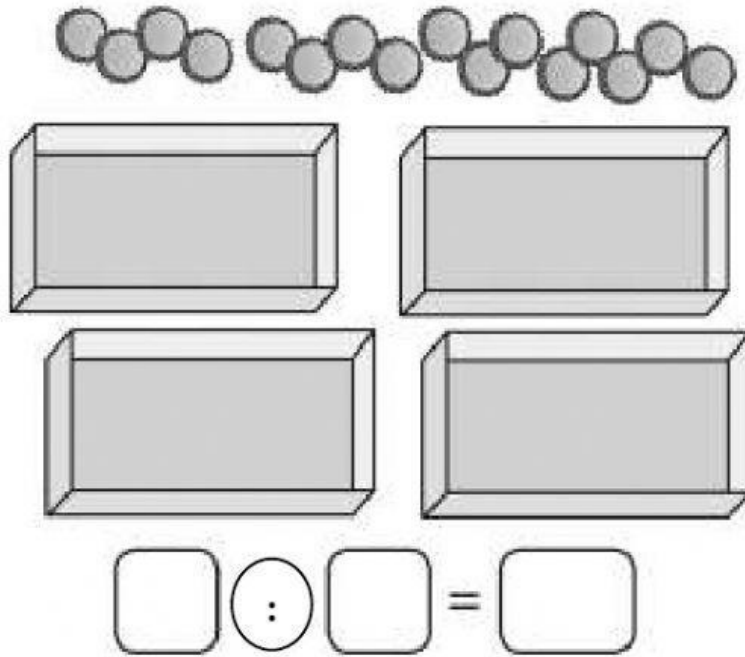
❖ 12 fresas en 3 platos.



$$\square : \square = \square$$

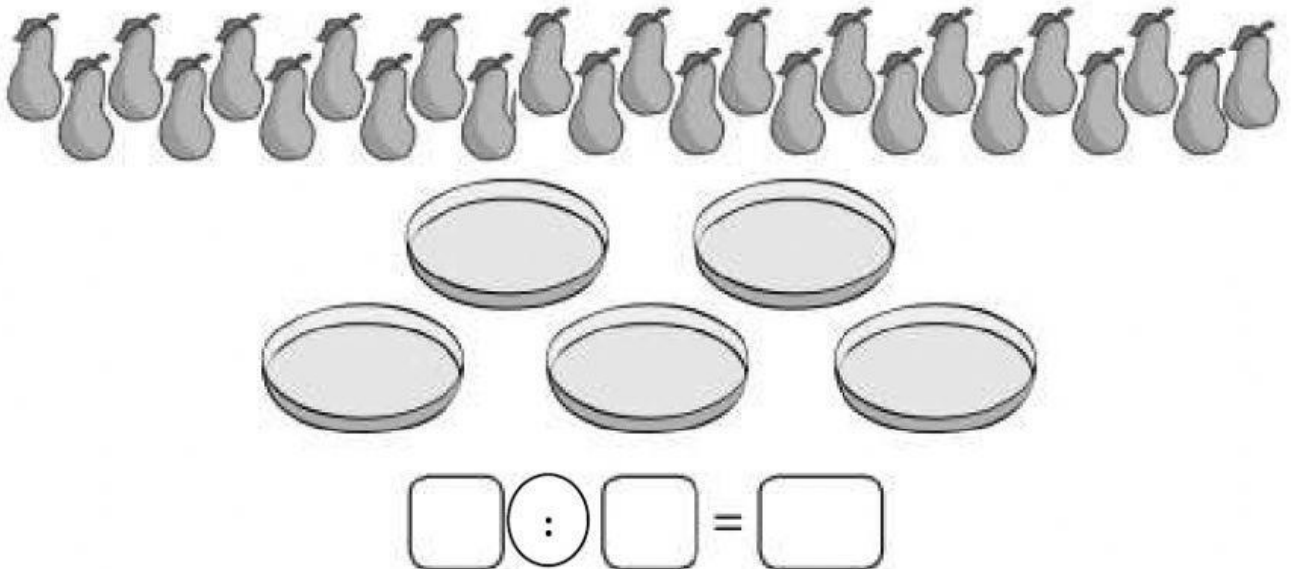
En cada plato hay _____ fresas.

❖ 16 chapitas en 4 cajas.



En cada caja hay _____ chapitas.

❖ 25 peras en 5 platos.



En cada plato hay _____ peras.

2. Lee, resuelve y completa.

- a. Camila repartió 18 estrellas en partes iguales entre sus 6 amigas. ¿Cuántas estrellas le dio a cada una?

$$\boxed{} \div \boxed{} = \boxed{}$$

Respuesta:

- b. Un granjero repartió en partes iguales 14 corderos entre sus 7 hijos. ¿Cuántos corderos dio a cada uno?

$$\boxed{} \div \boxed{} = \boxed{}$$

Respuesta:

- c. Andrés repartió 21 caramelos en partes iguales entre sus 3 amigos. ¿Cuántos caramelos recibió cada uno?

$$\boxed{} \div \boxed{} = \boxed{}$$

Respuesta:

- d. Roberto repartió 27 figuritas en partes iguales entre sus 3 amigos. ¿Cuántas figuritas recibió cada uno?

$$\boxed{} \div \boxed{} = \boxed{}$$

Respuesta: