

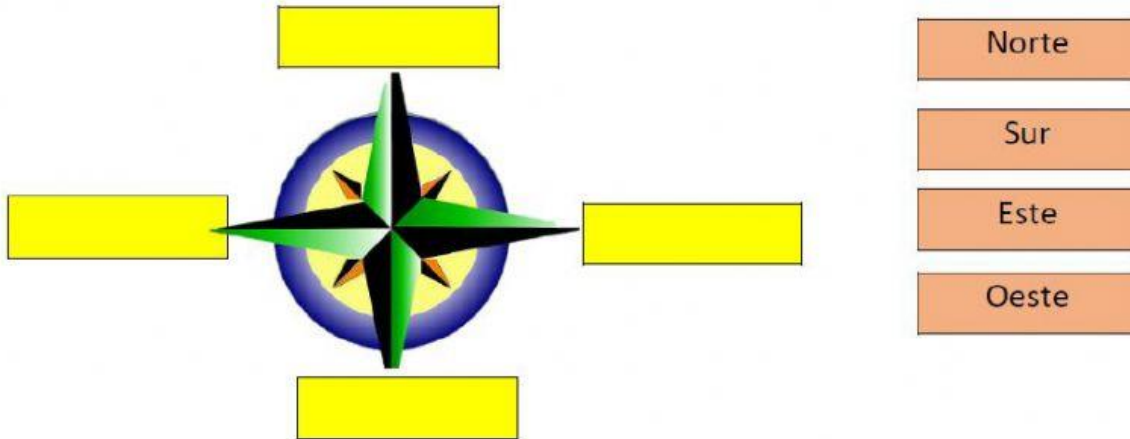


Colegio Adventista "Miraflores"

NOMBRE

AÑO Y SECCIÓN

1. Arrastra cada punto cardinal en su posición en la rosa de los vientos.




2. Observa la imagen y elige la opción correcta a cada información

El pueblo está al

La piscina está al

El bosque está al

El sol está al



3. Une cada imagen con su definición



Representa una
porción de la tierra.



Muestra la superficie
de la Tierra en su
totalidad.



Representa a la tierra
en forma
tridimensional.

4. Une con líneas los instrumentos de orientación con sus respectivos nombres.



MAPA

BRÚJULA

G.P.S.

PLANO

5. HAZ CLIK EN LA DEFINICIÓN CORRECTA



Son representaciones geográficas de espacios pequeños vistos desde arriba.

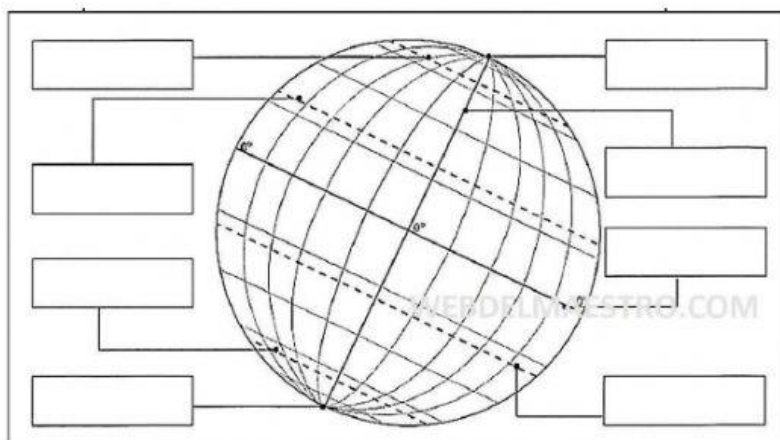
Son representaciones geográficas de la Tierra o parte de ella, sobre una superficie plana.



Son representaciones cartográficas que muestran a la tierra como si fuera plana en vez de esférica

Son representaciones geográficas que muestran a la tierra como si fuera plana

6. Arrastra el nombre que corresponde



Línea Ecuatorial

Polo Sur

Trópico de capricornio

Círculo polar Antártico

Polo Norte

Trópico de Cáncer

Meridiano de Greenwich

Círculo Polar Ártico